



السؤال الأول: (موضوعي) يتكون من (أ - ب - ج) :-

(٦ = ٦ × ١)

أ) أكمل العبارات التالية بما يناسبها :

- ١- هضبة تقع في الجزائر وتمتد بين جبال أطلس تسمى .. الشطوط ص ٤٠
- ٢- الدولة العربية التي انضمت الى جامعة الدول العربية عام ١٩٩٣ م تسمى جزر القمر ص ٢٣
- ٣- مجرى صغير مائي في الأرض يسمى .. الأفلاج . ص ٦٠
- ٤- مراكز انتقلت منها الحضارة الإسلامية الى أوروبا جزيرة صقلية وبلاد الشام وبلاد الأندلس .. ص ٩٢
- ٥- الأهرامات مظهر من مظاهر حضارة تسمى مصر القديمة ص ٧٧
- ٦- ملكة ورد ذكرها في القرآن الكريم ومن اشهر ملوك سبأ أسمها .. بليقيس .. ص ٦٣

(٥ = ٥ × ١)

ب) اختر الإجابة الصحيحة من بين البدائل التي تلي كل عبارة بوضع خط تحتها :

١- دول يمر بها نهر الفرات : ص ٥٨

أ- مصر والسودان	ب- تونس والجزائر	ج- العراق وسوريا	د- لبنان وسوريا
-----------------	------------------	------------------	-----------------

٢- الشكل المقابل يمثل ملك يتسلم شرائع قانونية قديمة أدت لانتشار الأمن في حضارته يسمى : ص ٨٤



أ- آشور بانيبال	ب- نبوخذ نصر
ج- سرجون	د- حمورابي

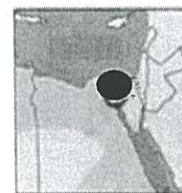
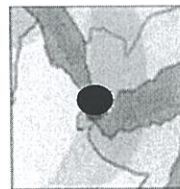
٣- يمتد الوطن العربي في قارتي آسيا وقارة تسمى ص ٣٣

أ- استراليا	ب- أوروبا	ج- افريقيا	د- أمريكا
-------------	-----------	------------	-----------

٤- محطة الشويخ لتحلية المياه أنشأت في دولة أسمها : ص ٦٢

أ- قطر	ب- الكويت	ج- السعودية	د- عمان
--------	-----------	-------------	---------

٥- المضيق الذي يربط بين خليج عمان والخليج العربي يمثله خريطة تحمل الحرف: ص ٢٩



د-

ج-

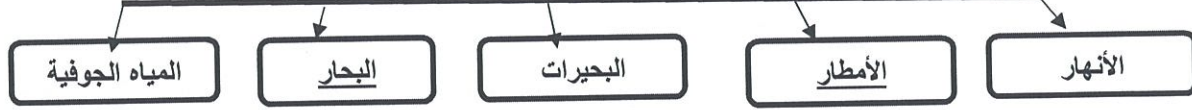
ب-

أ-

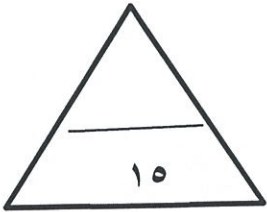
(٤ = ٤ × ١)

ج أكمل المخططات السهمية التالية :

١- الثروة المائية في الوطن العربي ص ٦١-٧٥



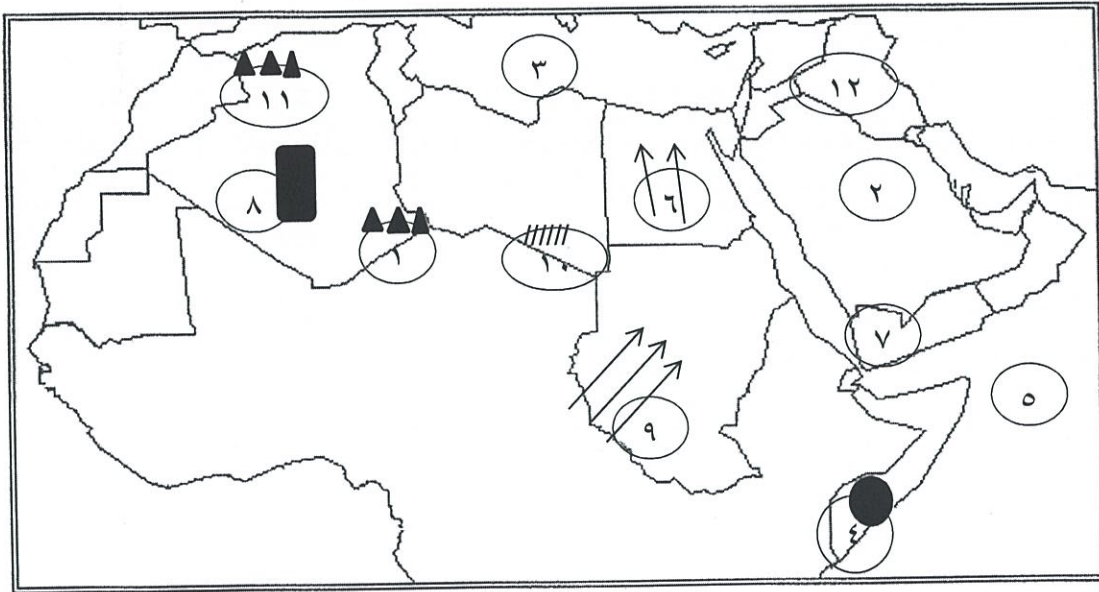
٢- العوامل المؤثرة في مناخ الوطن العربي ص ٣٤



السؤال الثاني : موضوعي و يتكون من (١ - ب - ج) :

(٣ = ٦ × ١/٢)

أ لاحظ خريطة الوطن العربي ثم أجب عما هو مطلوب منك



- رياح الهبوب يمثلها على الخريطة الرقم (٩) ص ٤٨
- مرتفعات أطلس يمثلها على الخريطة الشكل الذي يحمل الرقم (١١) ص ٣٨
- دولة عربية يقطعها خط جرينتش يمثلها على الخريطة الرقم (٨) ص ٣١
- البحر المتوسط يمثلها على الخريطة الرقم (٣) ص ٢٣
- حضارة سبأ يمثلها على الخريطة الرقم (٧) ص ٦٣
- الكتابة المسمارية تعود لإحدى الحضارات القديمة وتحمل على الخريطة الرقم (١٢) ص ٨٣

$$(٧ = ٧ \times ١)$$

ب صح ما تحته خط في العبارات التالية وأكتب الإجابة الصحيحة فيما بين القوسين :

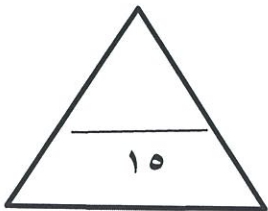
- ١- الطيور المنتشرة في المناطق الصحراوية الصقور والبوم والحمراء. (الحبارى) ص ٥٥
- ٢- الفلين يؤخذ من لحاء أشجار تسمى السنديان و العرعر . (البلوط) ص ٥٢
- ٣- الجبل الأخضر مرتفعات تقع في دولتين عربيتين هما عمان و العراق
- ٤- المضيق الذي يربط بين البحر الأحمر وخليج عدن جبل طارق . (باب المنذب) ص ٢٩
- ٥- سهول ليبيا من أنواع السهول الساحلية . (الفيضية) ص ٤٢
- ٦- الموقع الذي يمثل المكانة المهمة بين دول العالم يعرف بالموقع الفلكي . (الموقع الاستراتيجي) ص ٢٨
- ٧- المسطح المائي الذي يحد الوطن العربي من جهة الغرب يسمى المحيط الهندي . (المحيط الأطلسي) ص ٢٣

$$(٥ = ٥ \times ١)$$

ج صنف النباتات الطبيعية كل في مكانه الصحيح في الجدول أدناه :

(الصبار - الحلفا - السنوبر الحلبي - التاك - النخيل) (ص ٥٢ - ٥٤)

غابات	حشائش	نباتات صحراوية
التاك	الحلفا	الصبار
السنوبر الحلبي		النخيل



السؤال الثالث : (مقالي) يتكون من (أ - ب) :-

أ) اكتب ما تعرفه عن :

(٤ × ٤ = ٤)

١- العوامل التي ساعدت على قيام الحضارة المصرية القديمة. ص ٧٥ (يكتفي بنقطتين)
أ-تنوع الصخور والمعادن

ب- امتداد الصحراء نهر النيل

ج-اعتدال المناخ وجفافه

٢- الأمطار في الوطن العربي تتميز بصفات عديدة . ص٥٩(يكتفي ٣ نقاط)

أ-تذبذب كمية المطار بين عام ، كما أنها تسقط في أيام معدودة .

ب -الأمطار في الوطن العربي تكاد تقتصر على الأطراف الشمالية والأطراف الجنوبية منها.
-تتصف الأمطار بأنها قليلة بصفة عامة ولا يستثنى من ذلك سوى المناطق التي تقع من ورائها الجبال (سواحل المغرب وساحل لبنان).

(٦ × ٦ = ٦)

ب) أقرأ العبارة التالية ثم أجب عما يليها :

(أن الحياة النباتية تختلف في الوطن العربي باختلاف كمية الأمطار و درجة الحرارة)

١- قارن بين حشائش السافانا و الاستبس من حيث : ص٥٢

أوجه المقارنة	حشائش الاستبس	حشائش السافانا
الحيوانات التي تربي عليها	الأغنام- الأبل - الخيول -الحمير	الماشية
حجم أشجارها	قصيرة نوعاً ما	طويلة يختلف نوعها حسب كمية المطار

٢- ظلل مناطق تركيز حشائش السافانا في قارة أفريقيا على خريطة الوطن العربي الصماء التالية :



مناطق حشائش السافانا في قارة أفريقيا



(٢ = ٢ × ١)

السؤال الرابع : (مقالى) يتكون من (أ - ب - ج) :

أ فرق بين كلا من : ص ٤٢

سهول ساحلية	سهول فيضية
هي الأراضي المنبسطة التي تجاور سواحل البحار والمحيطات	هي الأراضي المنخفضة التي تكونت من التربة التي حملتها مياه الأنهار .

(٥ = ٥ × ١)

ب أقرأ العبارة التالية ثم أجب عما يليها من أسئلة:

يعد مناخ الكويت ضمن مناخ الاقليم الصحراوي الحار ويتمثل بفصلين رئيسيين هما فصل صيف طويل حار جاف وفصل شتاء قصير دافئ قليل المطر

١- عرف ماتحته خط : ص ٤٤

مناخ : حاله الجو خلال فترة زمنية طويلة من حيث درجة الحرارة والرطوبة والامطار

٢- عدد العوامل المؤثرة في مناخ الوطن العربي . ص ٤٦ يكتفى باثنين

أ-الموقع بالنسبة لدوائر العرض

ب- التضاريس

* القرب أو البعد من المسطحات المائية * الرياح

٣-ماذا تتوقع ان يحدث لو هبت الرياح في الحالتين : ص ٤٦

- من منطقة باردة : تنخفض درجة الحرارة

- من منطقة حارة : ترتفع درجة الحرارة

(٣ = ٣ × ١)

ج عرف المفاهيم التالية :

١-قناة : مجرى مائي صناعي ضيق يشق لأغراض الري أو النقل . ص ٢٨

٢-هضبة: أرض مرتفعة سطحها مستو وتمتد على مساحة كبيرة ص ٤٠

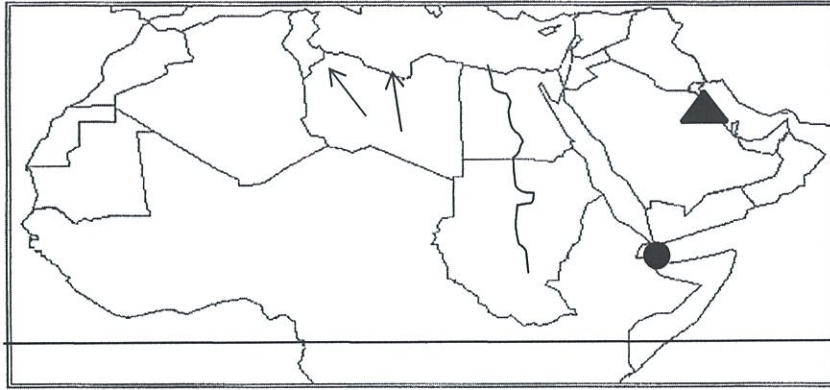
٣-نبات طبيعي : نبات ينمو تلقائيا عقب سقوط المطر دون تدخل الإنسان ص ٥١



السؤال الخامس : (مقالى) يتكون من (أ - ب - ج) :

(٤ = ٤ × ١)

أ لاحظ خريطة الوطن العربي التي أمامك جيداً ثم نفذ ما هو مطلوب بالأسئلة في الجدول التالي :



١- ظلل مضيق باب المندب باستخدام الرمز ● ص ٢٩	٢- ارسم خط الاستواء في مكانه الصحيح ص ٣١	٣- ارسم اتجاه رياح القبلي التي تهب على الوطن العربي باستخدام الرمز ↗ ↘ ص ٤٨	٢- موقع حضارة دلمون باستخدام الرمز ▲ ص ٧١
--	--	---	---

ب علل ما يلى :

١- اشتهر اهل اليمن بانهم اسياد للتجارة العربية. ص ٨٧ يكتفى بنقطتين (٤ = ٤ × ١)

سيطرو على الطرق التجارية امتدت تجارتهم بين شمال شبه الجزيرة وجنوبها كان هناك تبادل تجاري مع الحضارات المجاورة لها

٣- تعتبر منطقة جنوب غرب شبه الجزيرة العربية من اكثر مناطق شبه الجزيرة العربية ملائمة لقيام الحضارة . ص ٨٥

- بسبب توفر المياه العذبة

- المناخ المناسب لقيام الزراعة

- الموقع الذي يسمح بقيام النشاط التجاري

(٢ = ٢ × ١)

ج عرف المفاهيم التالية :

١- مياه جوفية : المياه التي توجد في باطن الأرض . ص ٦٠

٢- حضارة : كل ما يطرأ على المجتمع من تقدم وتطور في جميع النواحي . ص ٧١



انتهت الأسئلة

العام الدراسي ٢٠١٧/ ٢٠١٨ م
الزمن : ساعة و نصف
عدد الاوراق : (٦)

اختبار نهاية الفصل الدراسي الأول
للمنتصف السابع المتوسط
لمقرر الكويت والوطن العربي

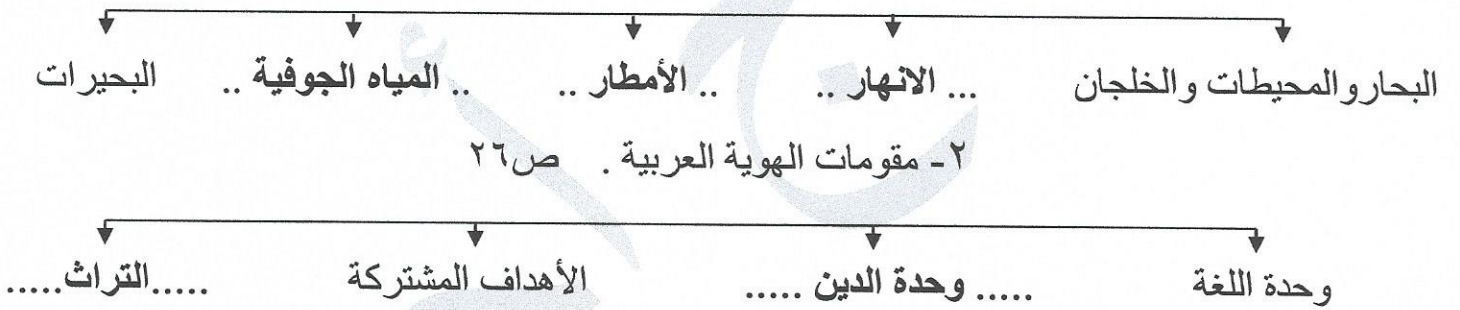
وزارة التربية
الإدارة العامة للتعليم الخاص
التوجيه الفني للاجتماعيات

السؤال الأول : يتكون من (أ - ب - ج) :

(أ) أكمل العبارات التالية بما يناسبها مما درست : ٥ = ٥ × ١

- ١- الوطن العربي يقع في قارتي آسيا و..... أفريقيا ص ٢١
- ٢- الحضارة العربية الإسلامية انتقلت إلى أوروبا عن طريق وبلاد الشام والأندلس و صقلية ص ٩٢
- ٣- الخط الذي كانت تكتب به الأبجدية في حضارة بلاد اليمن يسمى الخط المسند ص ٨٧
- ٤- حشائش حارة طويلة تربي عليها الماشية بالوطن العربي اسمها السافانا ص ٥٢
- ٥- محطة رأس عبود لتحلية المياه توجد بدولة عربية تسمى ... قطر ص ٦١

(ب) أكمل الفراغ في المخططات السهمية التالية بما يناسبها : ٥ = ٥ × ١
١- مصادر المياه في الوطن العربي . ص ٥٧



(ج) صنف ما يلي كلاً حسب موقعه في الجدول التالي : ٥ = ٥ × ١

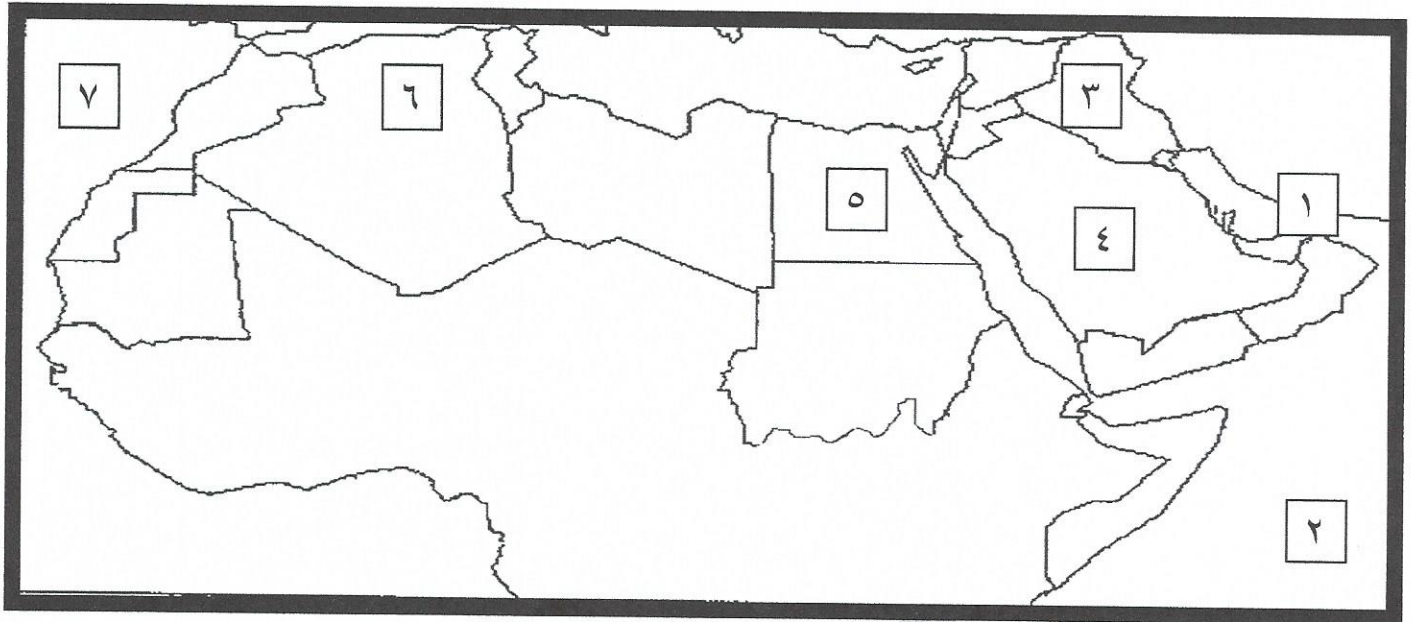
(نجد / الحجاز / عكاز / مرة / الشطوط)

السهول	الهضاب	الجبال
- عكاز ص ٤٢	- نجد ص ٤٠ - الشطوط ص ٤٠	- الحجاز ص ٣٨ - مرة ص ٣٨

يتبع الصفحة التالية

السؤال الثاني : يتكون من (أ - ب - ج)

(أ) لاحظ خريطة الوطن العربي الصماء ثم اكتب الرقم الدال على كلاً مما يلي : $٥=٥ \times ١$



- الدولة العربية التي يوجد بها نهر الشليف علي الخريطة يمثلها الرقم٦..... ص ٥٨
- مضيق هرمز علي الخريطة يمثله الرقم١..... ص ٢٨
- حضارة بلاد الرافدين علي الخريطة يمثلها الرقم٣..... ص ٧٩
- أكبر الدول العربية الاسيوية مساحة علي الخريطة يمثلها الرقم٤..... ص ٢٣
- المحيط الهندي علي الخريطة يمثله الرقم٢..... ص ٣٣

(ب) اختر للمجموعة (ب) ما يناسبها من المجموعة (أ) وذلك بوضع الرقم في المكان المناسب :

$٥ = ٥ \times ١$

الرقم	المجموعة (أ)	الرقم المناسب	المجموعة (ب)
١	دولة عربية تشرف على قناة السويس	٤	السودان ص ٤٨
٢	دولة عربية يمر بها خط الاستواء	٥	العراق ص ٨٢
٣	دولة عربية تطل على المحيط الاطلسي فقط	-	المغرب
٤	دولة عربية تهب عليها رياح الهبوب	١	مصر ص ٢٨
٥	دولة عربية توجد بها حدائق بابل المعلقة	٢	الصومال ص ٣١
		٣	موريتانيا ص ٣٣

(ج) اختر الأكمال المناسب للعبارات التالية من بين الخيارات التي تلي كلا منها وضع تحتها خط : $٥=٥ \times ١$

١- المسطح المائي الذي تحيط به اليابسة من جميع الاتجاهات يسمى : ص ٦٠

أ- البحيرة ب- الخليج ج- المحيط د- النهر

٢- نسبة مساحة الوطن العربي من جملة مساحة العالم تبلغ : ص ٢٣

أ- ٥% ب- ١٠% ج- ١٥% د- ٢٠%

٣- حضارة دلمون كانت تسمى قبل الفتح الإسلامي باسم : ص ٨٨

أ- تدمر ب- بابل ج- معين د- أوال

٤- الشجرة التي تمثل إحدى النباتات الصحراوية بالوطن العربي هي : ص ٥٤

أ- البلوط ب- الساج ج- النخيل د- الأبنوس

٥- أكثر الأشكال التضاريسية انتشاراً في الوطن العربي تسمى : ص ٤٠

أ- الجبال ب- الهضاب ج- السهول د- التلال

السؤال الثالث : يتكون من (أ - ب - ج) :

(أ) بعد قراءة الفقرة التالية أجب عما يليها :

$٥=٥ \times ١$

((تبلغ مساحة الوطن العربي نحو ١٣,٥٠٠ مليون كم^٢. وتقع جزر القمر خارج نطاق موقع الوطن العربي حيث تتكون من أربع جزر مستقلة تقع شمال غرب جزيرة مدغشقر في المحيط الهندي وعاصمتها موروني . ولموقع الوطن العربي أهمية كبيرة بالعالم .))

١- في أي عام انضمت جزر القمر إلى الجامعة العربية ؟

- ١٩٩٣م ص ٢٣

٢- ما اسم عاصمة جزر القمر ؟

- موروني ص ٢٣

٣- كم نسبة سكان الوطن العربي من جملة سكان العالم ؟

- ٥% ص ٣٥

٤- عدد الأهمية الجغرافية للوطن العربي ؟

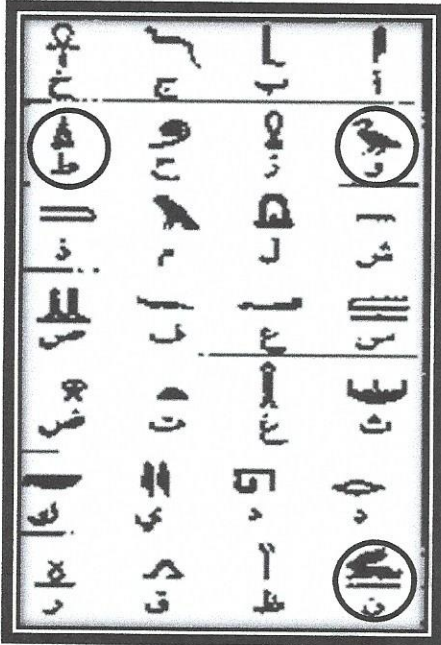
- يشغل مكاناً وسطاً بين قارات العالم القديم ص ٣٥

- يطل على مسطحات مائية واسعة ذات أهمية كبيرة للملاحة والتجارة العالمية ص ٣٥

(ب) عرف ما يلي : $٥ = ٥ \times ١$

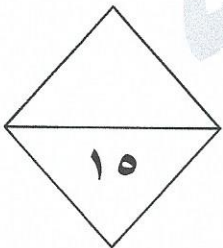
- ١- الأفلاج : مجرى صغير مائي في الأرض ص ٦٠
- ٢- النبات الطبيعي : هو النبات الذي ينمو تلقائيا عقب سقوط المطر دون تدخل الإنسان ص ٥١
- ٣- السهول الفيضية : ... هي الأراضي المنخفضة التي تكونت من التربة التي حملتها مياه الانهار... ص ٤٢
- ٤- الموقع الفلكي : هو نقطة من الكرة الارضية يتحدد موقعها بخطوط الطول ودوائر العرض ص ٣١
- ٥- الموقع الإستراتيجي : أي موقع ذي مكانة مهمة بين دول العالم ص ٢٨

(ج) شاهد الصورة التالية ثم اجب عن الاسئلة التي تليها : $٥ = ٥ \times ١$



- ١- ماذا تمثل الصورة المقابلة ؟
- الكتابة الهيروغليفية ص ٧٨
- ٢- ما أسم الحضارة التي ظهرت بها ؟
- الحضارة المصرية القديمة ص ٧٦
- ٣- حدد العوامل التي ساعدت على قيام هذه الحضارة في الوطن العربي ؟
- تنوع الصخور و المعادن
- امتداد الصحراء و نهر النيل
- اعتدال المناخ وجفافه ص ٧٥ (يكتفى بنقطتين)

٤- ضع دائرة على الرسوم التي تمثل كلمة (وطن) في هذه الحضارة ؟ ص ٧٨



يتبع الصفحة التالية



تابع / اختبار نهاية الفصل الدراسي الأول للصف السابع المتوسط لمادة الاجتماعيات للعام الدراسي ٢٠١٧/٢٠١٨ م
لسؤال الرابع : يتكون من (أ - ب - ج) :

(أ) علل ما يلي : $٥ = ٥ \times ١$

١- عاشت أوروبا عصور الظلام في القرن العاشر الميلادي . ص ٩٢

- بسبب سيطرة الكنيسة على عقول الناس

٢- اهتمام المصريون القدماء بتحنيط جثث موتاهم . ص ٧٦

- لا اعتقادهم أن الحياة تعود إلى الجسد بعد الموت أي اعتقدوا بفكرة البعث و الخلود

٣- - تعد منطقة جنوب غرب شبه الجزيرة العربية من أكثر المناطق ملائمة لقيام الحضارات . ص ٨٥

- توافر المياه العذبة (يكتفى بنقطتين)

- المناخ المناسب لقيام الزراعة

- الموقع الذي يسمح بقيام النشاط التجاري فيها

٤- تنوع النبات الطبيعي في الوطن العربي . ص ٥١

- نوع التربة التي تمد النبات بالغذاء وهي متنوعة

- المناخ يؤثر في تنوع النبات نتيجة لاختلاف درجات الحرارة واختلاف كمية الأمطار ومواسمها

(ب) قارن بين كلاً مما يلي حسب المطلوب في الجدول التالي : $٥ = ٥ \times ١$

أوجه المقارنة	الديانة الإسلامية ص ٩٠	الديانة المسيحية ص ٩٠
الاختلاف	- يعتبر الإسلام خاتمة الرسالات السماوية جميعاً . - نزلت على سيدنا محمد صلى الله عليه وسلم عام ٦١٠ م في مكة المكرمة . - كتابها القرآن الكريم . (يكتفى بنقطتين)	- نزلت على سيدنا عيسى بن مريم عليه السلام . - كتابها الإنجيل .
التشابه	- نزلت الديانتين في الوطن العربي مهد الديانات السماوية التي انتشرت في أنحاء العالم . - أكسبت مكانه روحه مقدسة للوطن العربي .	(يكتفى بنقطة)

يتبع الصفحة التالية



(ج) لاحظ الجدول التالي ثم أجب عن الأسئلة التي تليه: $٥ = ٥ \times ١$

جدول نسبة استخدام المياه المحلاة لبعض الدول العربية

الرقم	اسم الدولة العربية	النسبة
١	السعودية	٨ %
٢	قطر	٣٨ %
٣	ليبيا	٥ %
٤	الإمارات	٢٧ %
٥	الكويت	٥٥ %
٦	البحرين	٣١ %

- ١- استخلص من الجدول الدول العربية التي نسبة استخدام المياه المحلاة فيها أكثر من ٣٥ % ؟ ص ٦٢
- الكويت / قطر
- ٢- في أي عام أصبحت الكويت تعتمد اعتماداً كاملاً على تحلية مياه البحر ؟ ص ٦١
- ١٩٥٣ م
- ٣- ما هي صفات الأمطار في الوطن العربي ؟
- تذبذب كمية الأمطار بين عام وآخر كما أنها تسقط في أيام معدودة (يكتفى بوحدة)
- الأمطار في الوطن العربي تكاد تقتصر على الأطراف الشمالية و الأطراف الجنوبية منها
- تتصف الأمطار بأنها قليلة بصفة عامة ولا يستثنى منها من ذلك سوى المناطق التي تقع من ورائها الجبال كما هو الحال في سواحل المغرب وساحل لبنان ص ٥٩
- ٤- أكتب بطاقة نصائح تحت على ترشيد استخدام المياه بالوطن العربي ؟

- أي إجابة مناسبة يراها المصحح من المتعلم

انتهت الاسئلة



وزارة التربية

الإدارة العامة لمنطقة الجهراء التعليمية



اختبار نهاية الفصل الدراسي الأول

٢٠١٨ / ٢٠١٧

الصف	السابع
المادة	الاجتماعيات



مكتب المدير العام
الإدارة العامة لمنطقة الجهراء التعليمية



وزارة التربية
مكتب المدير العام
الإدارة العامة لمنطقة الجهراء التعليمية



وزارة التربية

امتحان نهاية الفترة الدراسية الأولى

العام الدراسي: ٢٠١٧/٢٠١٨
الزمن: ساعة ونصف
عدد الأوراق: (٦)

الإدارة العامة لمنطقة الجهاد التعليمية للصف السابع
الكويت والوطن العربي

التوجيه الفني للاجتماعيات

السؤال الأول: (إجباري) يتكون من (أ - ب - ج - د - هـ) :-
أ) أكمل العبارات التالية بما يناسبها فيما درست :- (لكل سؤال درجة)

- ١ - الحيوان الذي يطلق عليه لقب سفينة الصحراء يسمى الإبل..... ص ٥٦
- ٢ - الدولة العربية التي يوجد بها جبل الأحجار تسمى الجزائر ص ٣٨
- ٣ - أشهر سدود حضارة جنوب غرب شبه الجزيرة العربية يسمى سد مأرب ... ص ٦٨
- ٤ - ملكة وورد ذكرها في القرآن تسمى بلقيس بنت شراحيل ص ٨٦
- ٥ - جميع أشكال المياه على سطح الأرض مثل البحار والخلجان وغيرها يسمى المسطحات المائية ص ٢٨ ...

ب) صوب ما تحته خط في العبارات التالية :-

التصويب	العبرة
النباتات الصحراوية ص ٥٤	١ - يعتبر نبات النخيل من ضمن نباتات <u>الغابات المدارية الحارة</u> .
مصر ص ٢٨	٢ - توجد قناة السويس في <u>دولة ليبيا</u> .
المسمارية ص ٨٣	٣ - اخترع السومريون نوعا من الكتابة عرفت باسم <u>المسند</u> .
محمد عليه أفضل الصلاة والسلام ص ٩٠	٤ - الديانة الإسلامية نزلت على <u>سيدنا عيسى بن مريم عليه السلام</u> .
الهضاب ص ٤٠	٥ - أكثر الأشكال التضاريسية انتشارا في الوطن العربي هي <u>الجبال</u>

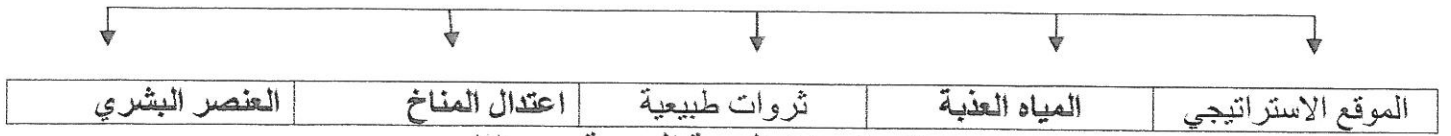
ج) - صف الأنهار التالية في المكان المناسب لها في الجدول التالي: - ص ٥٨

جوبا - دجلة - مجردة - الفرات - أم الربيع - العاصي .

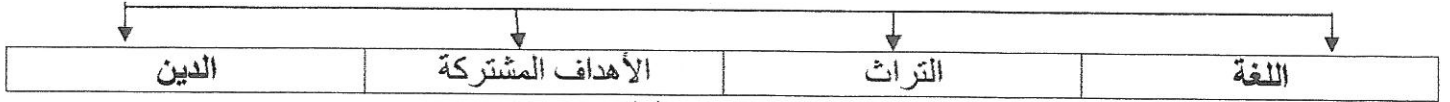
أنهار في الجناح الأفريقي	أنهار في الجناح الآسيوي
مجردة	دجلة
أم الربيع	الفرات
جوبا	العاصي

د - أكمل المخطط السهمي التالي :-

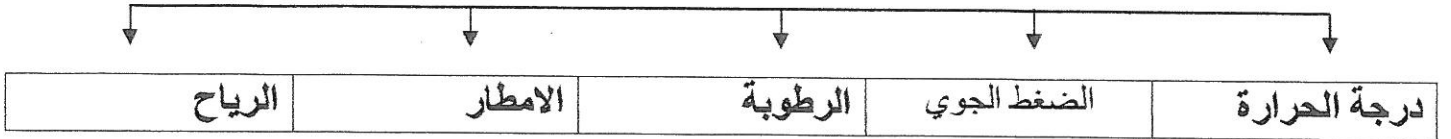
١ - عوامل قيام الحضارة ص ٧٣



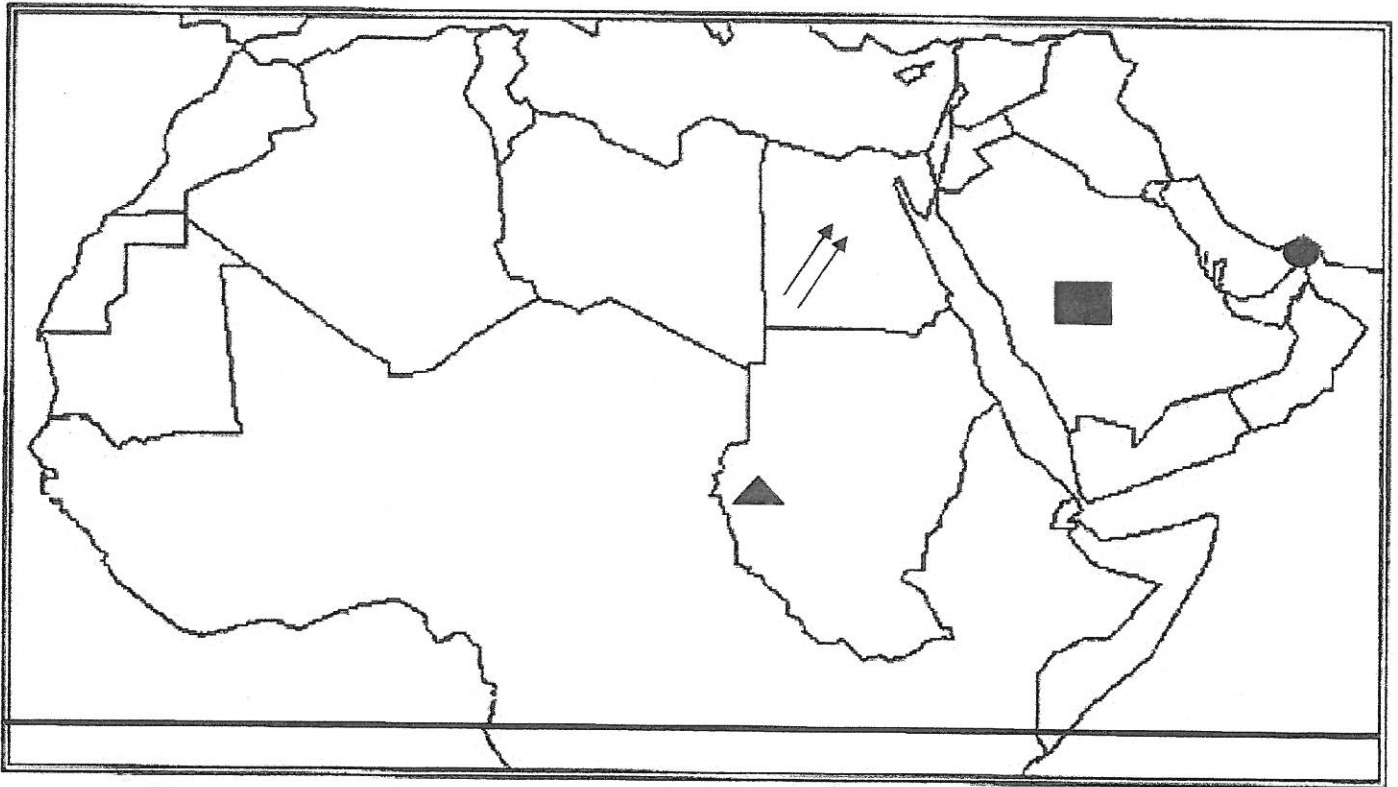
٢ - مقومات الهوية العربية ص ٢٦



٣ - عناصر الطقس



هـ (أمامك خريطة الوطن العربي الصماء حدد باستخدام الرموز التالية :



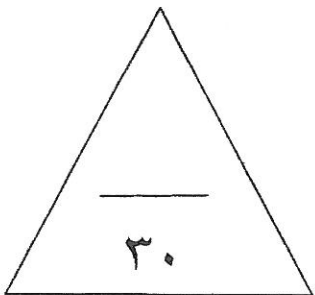
١ - خط الاستواء — ص ٣١


٢ - جبل مرة ▲ ص ٣٨

٣ - رياح الخماسين ← ص ٤٨

٤ - مضيق هرمز ● ص ٢٩

٥ - هضبة نجد ■ ص ٤٠





السؤال الثاني : يتكون من (أ - ب - ج) :-

أ) لاحظ الصورة الموجودة أمامك ثم أجب عن الأسئلة التالية:

١ - ما اسم الحضارة التي تمثلها الصورة ؟ ص ٧٤ (درجة)

الحضارة المصرية القديمة .

٢ - ما اسم الكتابة الذي اشتهرت بها ؟ ص ٧٧ (درجة)

الكتابة الهيروغليفية .

٣ - أكتب مما درست عن المعتقدات الدينية لهذه الحضارة ص ٧٦

اعتقد المصريون القدماء أن الحياة تعود إلي الجسم بعد الموت أي أنهم اعتقدوا في البعث والخلود ولذلك حرصوا على

تحنيط جثث موتاهم واهتموا ببناء القبور وإقامة المعابد الفخمة للآلهة . (درجة)

ب) فرق بين كل مما يلي :- (أربع درجات)

السهول الساحلية ص ٤٢ (درجة)	السهول الفيضية ص ٤٢ (درجة)
هي الأراضي المنبسطة التي تجاور سواحل البحار والمحيطات .	هي الأراضي المنخفضة التي تكونت من التربة التي حملتها مياه الأنهار .
الأفلاج ص ٦٠ (درجة)	المياه الجوفية ص ٦٠ (درجة)
الماء الجاري . (وهو مجرى صغير مائي في الأرض)	هي المياه التي توجد في جوف الأرض . (باطن الأرض)

ج) نفذ ما بين الأقواس :-

١ - أهم الحيوانات السائدة في المنطقة الصحراوية . (أذكر) ص ٥٥ (يكتفى بنقطتين) (درجة)

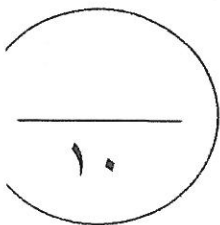
الإبل - الماعز - الضب - الأرانب البرية - وأنواع الطيور كالصقور واليوم والحبارى وأنواع من الحشرات الجراد والعقارب والخنافس كما تكثر الزواحف الأفاعي والحيوانات القارضة الفئران والجربوع . (أي إجابة صحيحة يراها المعلم)

٢ - عرف سكان بلاد الرافدين الزراعة . (علل) ص ٨١ (درجة)

بسبب تربتها وسعة سهولها ووفرة مياهها فأقاموا السدود على الأنهار وجففوا المستنقعات واستصلحوا الأراضي .

٣ - انتقلت الحضارة العربية الإسلامية إلى قارة أوروبا بفضل مراكز الإشعاع . (عدد) ص ٩٢

- بلاد الأندلس - صقلية - الاحتلال الصليبي لبلاد الشام (يكتفى بنقطتين) (درجة)



السؤال الثالث : يتكون من (أ - ب - ج) :-

أ) قارن بين كل من :- ص ٥٢ (أربع درجات)

وجه المقارنة	الغابات المدارية الحارة	الغابات المعتدلة
المميزات	تمتاز بضخامة أشجارها وجذورها وجذوعها وتشابك أغصانها وأوراقها العريضة وارتفاعها الكبير . (درجة)	تتسم بعدم كثافتها وبعضها يكون دائم الخضرة وبعضها الآخر تتساقط أوراقه في فصل الشتاء . (درجة)
أهم الأشجار	الساج - الماهوجني - التاك - الأبنوس - السدر - الأثل - السنط . (يكتفى بنوع واحد) (نصف درجة)	الأرز - العرعر - الصنوبر الحلبي - البلوط - السنديان - الزيتون - التفاح - الحمضيات والفواكه البرية . (يكتفى بنوع واحد) (نصف درجة)
الاستخدام	البناء وصناعة الأثاث (يكتفى باستخدام واحد) (نصف درجة)	يستخدم لحاء البلوط والسنديان في صناعة الفلين (نصف درجة)

ب) أكتب مما درست عن :-

١ - الأهمية الاقتصادية للوطن العربي . ص ٣٥ (درجتين) (يكتفى بنقطتين) .

- منطقة عبور لحركة الملاحة والتجارة العالمية .

- الجسر الذي يربط قارات العالم الثلاث بمواردها الهائلة والضخمة .

- سكان الوطن العربي يشكلون ٥% من سكان العالم .

- أدى ظهور النفط بكميات كبيرة في منطقة الخليج العربي وشبة الجزيرة العربية وبعض مناطق أفريقيا إلي تزايد هذه

الأهمية .

٢ - العوامل الرئيسية المؤثرة في تنوع النبات الطبيعي في الوطن العربي . ص ٥١ (درجتين)

- نوع التربة .
- المناخ .

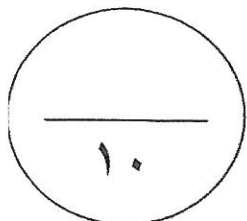
ج) برهن على صحة العبارات التالية :-

١ - يؤثر البعد والقرب عن خط الاستواء على مناخ الإقليم . ص ٤٦ (درجة)

المدن الساحلية أكثر اعتدالاً في المناخ صيفاً وأدفاً نسبياً شتاءً لان البحر يلطف درجة حرارتها .

٢ - كانت بلاد الرافدين موطناً للعديد من ممالك الحضارات القديمة . ص ٧٩ (درجة)

لامتيازها بالموقع ممتاز وبخصوبة تربتها ووفرة مياهها العذبة .



السؤال الرابع : يتكون من (أ - ب - ج) :-

اقرأ الفقرة التالية مستعينا فيها للإجابة عن بعض الأسئلة ومما درست :- ص ٦١

(أ) " يتم الاستفادة من البحار المالحة بعد تحليتها ، وهذه الطريقة تتبعها الدول التي تقل فيها مصادر المياه العذبة مثل دولة الكويت ، والتي تعتمد اعتمادا كبيرا على تحليه مياه الخليج العربي ، فأُنشئت أول محطة لها وهي محطة الشويخ عام ١٩٥٣ م . "

١ - ما المسطح المائي الذي تعتمد عليه دولة الكويت في تحليه المياه ؟ ص ٦٢ (درجة)

الخليج العربي .

٢ - ما اسم أول محطة لتحليه المياه في دولة الكويت ؟ ص ٦١ (درجة)

محطة الشويخ .

٣ - اقترح حولا للمحافظة على الثروة المائية في دولة الكويت . ص ٦٣ (درجتين) (يكتفى بنقطتين)

- ترشيد استخدام المياه والحد من التبذير في المنازل .

- الحد من هدر المياه في عمليات الري وذل باستخدام الوسائل الحديثة كالرش بالتنقيط والمحوري .

- تنظيم عملية الاستفادة من المياه الجوفية ومنع تسرب الأملاح الملوثة إليها واستثمارها على الوجه الأمثل .

- تطوير استعمال مياه الصرف الصحي المعالجة في الزراعة .

- إقامة البحيرات والسدود لتجميع مياه الأمطار والسيول للاستفادة منها في فصل الجفاف .

- توقيع اتفاقيات مع الدول المشاركة ودول المنبع لتحقيق مصالح الدول العربية المعنية .

(أي إجابة صحيحة يراها المعلم)

(ب) عرف المفاهيم التالية :- (أربع درجات)

١ - الحضارة . ص ٧١

كل ما يطرأ على المجتمع من تقدم وتطور ورفي في جميع نواحي الحياة الدينية والسياسية والاقتصادية والاجتماعية والفكرية .

٢ - الوطن العربي . ص ٢٢

مجموعة من الدول العربية التي يجمعها عدد من السمات المشتركة (الدين واللغة) ويمتد ضمن قارتين من أكبر قارات العالم مساحة .

٣ - أوال . ص ٨٩

اسم أطلق على البحرين قديما نسبة إلى صنم اسمه أوال كانت تعبده قبيلة وائل التي حكمت البحرين آنذاك .

- المناخ . ص ٤٤

هو حالة الجو خلال فترة زمنية طويلة من حيث درجة الحرارة والرطوبة والأمطار .

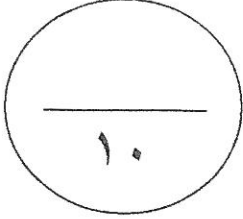
ج) ما النتائج المترتبة على كل من :-

١ - تطبيق مبدأ " السن بالسن والعين بالعين " في شريعة حمورابي . ص ٨٤ (درجة)

انتشار الأمن والأمان في البلاد .

٢ - الأهمية الجغرافية للوطن العربي . ص ٣٥ (درجة)

- تنافس الدول الاستعمارية للاستيلاء عليه منذ القرن ١٨ م وتقسيمه لعدة دول .



" انتهت الإجابة مع تمنياتنا لكم بالتوفيق "



وزارة التربية

الإدارة العامة لمنطقة العاصمة التعليمية



معلومات

الإحصائية





وزارة التربية
الإدارة العامة لمنطقة العاصمة التعليمية
التوجيه الفني للاجتماعيات

امتحان نهاية الفترة الدراسية
الأولى
مقرر الكويت والوطن العربي
للفص السابع

العام الدراسي : ٢٠١٧/٢٠١٨م
الزمن : ساعة وخمسة وأربعون
دقيقة
عدد الأوراق (٥)

نموذج الإجابة

السؤال الأول : ويتكون من (أ - ب - ج) :

(٥ × ١ = ٥ درجات)

أ- أكمل العبارات التالية بما يناسبها مما درست :

- ١- أشهر سدود اليمن (جنوب غرب شبة الجزيرة العربية) سد يسمى مأرب . ص ٨٦
- ٢- تعرف الرياح المحلية في دولة الكويت باسم الطوز . ص ٤٨
- ٣- مجرى مائي صناعي ضيق يشق لأغراض الري أو النقل يسمى قناة . ص ٢٨
- ٤- أرض مرتفعة سطحها مستوٍ وتمتد على مساحة كبيرة تعرف باسم الهضبة . ص ٤٠
- ٥- تعرف الحشائش الحارة باسم السافانا . ص ٥٢

ب- ظلل الخيار الصحيح من بين الخيارات التي تلي كل عبارة : (٥ × ١ = ٥ درجات)

١- الدولة العربية التي تقع خارج نطاق موقع الوطن العربي في المحيط الهندي: ص ٢٣

أ- موريتانيا	ب- جيبوتي	ج- جزر القمر	د- الصومال
--------------	-----------	--------------	------------

٢- الكتاب السماوي الذي أنزل على سيدنا عيسى بن مريم: ص ٩٠

أ- الإنجيل	ب- القرآن الكريم	ج- الزبور	د- التوراة
------------	------------------	-----------	------------

٣- مضيق يصل بين الخليج العربي وخليج عمان : ص ٢٨

أ- باب المندب	ب- هرمز	ج- جبل طارق	د- قناة السويس
---------------	---------	-------------	----------------

٤- من أهم أشجار الغابات المدارية الحارة: ص ٥٢

أ- البلوط	ب- العرعر	ج- السنديان	د- الساج
-----------	-----------	-------------	----------

٥- ظهرت شرائع قانونية قديمة من أهمها شريعة حمورابي في بلاد : ص ٨٤

أ- مصر القديمة	ب- الرافدين	ج- الشام	د- اليمن
----------------	-------------	----------	----------

تابع السؤال الأول :

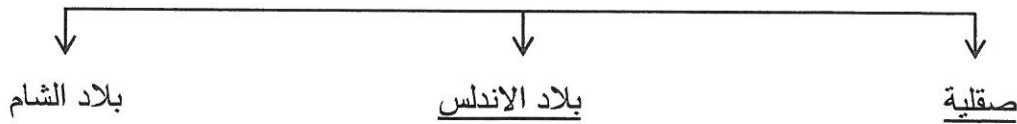
ج- صوب ما تحته خط في العبارات التالية : (٥ × ١ = ٥ درجات)

٣	العبرة	التصويب
١	عرفت الكتابة عند المصريين القدماء <u>بالمسمارية</u> . ص ٧٧	<u>الهيروغليفية</u>
٢	كل ما ارتفع من الأرض وله قمة لا يقل ارتفاعها عن ١٠٠٠ متر يسمى <u>سهل</u> . ص ٣٨	<u>جبل</u>
٣	يطلق حالياً على بلاد الرافدين اسم <u>الصومال</u> . ص ٧٩	<u>العراق</u>
٤	سميت دلمون قبل الفتح الإسلامي باسم <u>معين</u> . ص ٨٨	<u>أوال</u>
٥	تمثل مساحة الوطن العربي من جملة مساحة العالم نسبة <u>٣٠%</u> ص ٢٣	<u>١٠%</u>

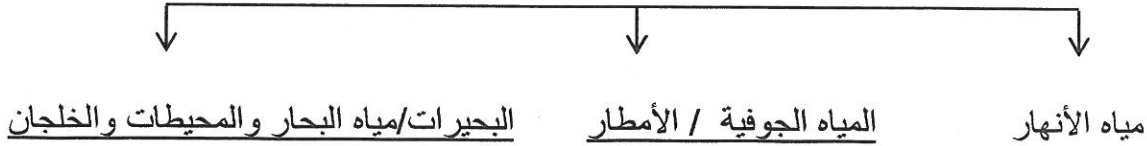
السؤال الثاني : ويتكون من (أ - ب - ج) :

(أ) أكمل المخططات السهمية التالية : (٦ × ١ = ٦ درجات)

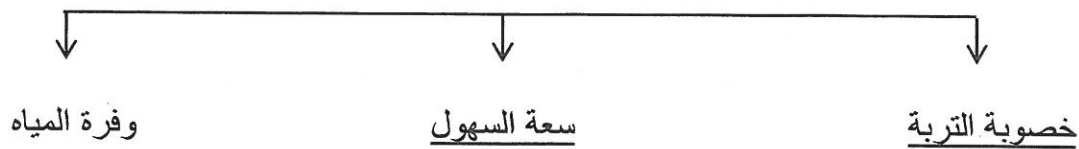
١- انتقلت الحضارة العربية الإسلامية إلى أوروبا عن طريق : ص ٩٢



٢- مصادر المياه في الوطن العربي : ص ٥٧



٣- العوامل التي ساهمت في ازدهار الزراعة في بلاد الرافدين : ص ٨١

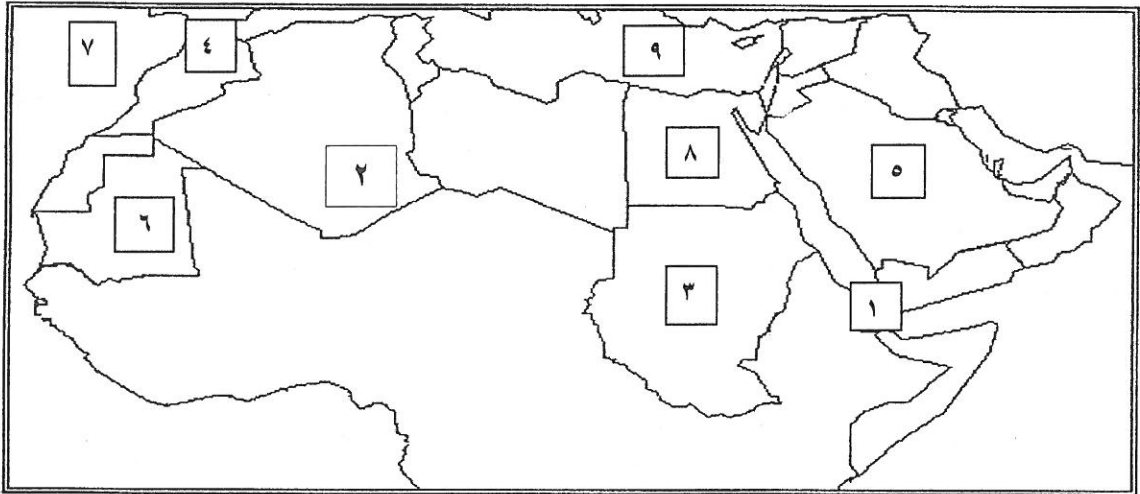


تابع السؤال الثاني :

ب - ضع خطأ تحت الكلمة التي لا تنتمي للمجموعة : (١ × ٤ = ٤ درجات)

م	العناصر	اسم المجموعة
١-	أطلس - الشطوط - عسير - الأخضر. ص ٣٨	جبال في الوطن العربي
٢-	أبو رقرق - أم الربيع - النيل - السوس . ص ٥٨	أنهار المغرب العربي
٣-	الصقور - البوم - الحبارى - الجراد . ص ٥٥	طيور المنطقة الصحراوية
٤-	سوريا - الجزائر - ليبيا - مصر . ص ٢٣	دول عربية أفريقية

ج) أمامك خريطة الوطن العربي اكتب الرقم الدال على العبارات التالية : (١ × ٥ = ٥ درجات)



- ١ - مضيق باب المندب يحمل الرقم (١) ص ٢٨
- ٢ - المحيط الأطلسي يحمل الرقم (٧) ص ٣٣
- ٣ - دولة موريتانيا تحمل الرقم (٦) ص ٢٣
- ٤ - جبل الأحجار يحمل الرقم (٢) ص ٣٨
- ٥ - البحر المتوسط يحمل الرقم (٩) ص ٣٣

السؤال الثالث : ويتكون من (أ - ب - ج) :

أ - فرق بين كل مما يلي :

(٦×١)

السهول الفيضية (النهرية)	السهول الساحلية
ص ٤٢	ص ٤٢
- الأراضي المنخفضة التي تكونت من التربة التي حملتها مياه الأنهار .	- الأراضي المنبسطة التي تجاور سواحل البحار والمحيطات .
الأفلاج	المياه الجوفية
ص ٦٠	ص ٦٠
- الماء الجاري (وهو مجرى صغير مائي في الأرض)	- المياه التي توجد في جوف الأرض
الطقس	المناخ
ص ٤٤	ص ٤٤
- حالة الجو في مكان لمدة قصيرة تتراوح بين يوم أو عدة أيام من حيث درجة الحرارة والرطوبة والأمطار والرياح والضغط الجوي .	- حالة الجو خلال فترة زمنية طويلة من حيث درجة الحرارة والرطوبة والأمطار .

(٤ درجات)

ب- اكتب نقطتين فيما يلي :

ص ٢٦

١- مقومات الهوية العربية .

- التراث (العادات والتقاليد)
- الأهداف المشتركة
ص ٤٦

- اللغة (اللغة العربية)
- وحدة الدين

٢- العوامل التي تؤثر في مناخ الوطن العربي .

- التضاريس

- الموقع بالنسبة لدوائر العرض .

- الرياح

- القرب أو البعد عن المسطحات المائية .

(٥ درجات)

ج علل لما يلي :

ص ٣٥

١- للوطن العربي موقع استراتيجي مهم .

- يشغل مكاناً وسطاً بين قارات العالم الثلاث .

- يطل على مسطحات مائية واسعة ذات أهمية كبيرة للملاحة والتجارة العالمية .

٢- حرص المصريون القدماء على تحنيط جثث موتاهم . ص ٧٦

- لاعتقادهم بعودة الحياة إلى الجسم بعد الموت أي أنه اعتقدوا في البعث والخلود .

ص ٥١

٣- تنوع النبات الطبيعي في الوطن العربي .

- نوع التربة .

- المناخ .

السؤال الرابع : ويتكون من (أ - ب - ج) :

(٥ درجات)

أ- عرف المفاهيم التالية :

١- (الحضارة) كل ما يطرأ على المجتمع من تقدم وتطور ورقي في جميع نواحي الحياة الدينية والسياسية والاقتصادية والفكرية .
ص ٧١

٢- (الموقع الفلكي) نقطة من الكرة الأرضية يتحدد موقعها بخطوط الطول ودوائر العرض . ص ٣١

٣- (النبات الطبيعي) النبات الذي ينمو تلقائياً عقب سقوط المطر دون تدخل من الانسان . ص ٥١

٤- (البحيرة) مسطح مائي تحيط به اليابسة من جميع الاتجاهات . ص ٦٠

٥- (الموقع الاستراتيجي) أي موقع ذي مكانة مهمة بين دول العالم . ص ٢٨

(٥ درجات)

ب- اكتب فيما يلي مما درست :

١- كيفية المحافظة على الثروة المائية (ترشيد استخدام المياه) . (يكتفى ثلاث نقاط) ص ٦٣

- ترشيد استخدام المياه والحد من التبذير في المنازل . - الحد من هدر المياه في عمليات الري .

- تنظيم عملية الاستفادة من المياه الجوفية ومنع تسرب الأملاح الملوثة إليها .

- تطوير استعمال مياه الصرف الصحي المعالجة في الزراعة .

- إقامة البحيرات والسدود لتجميع مياه الأمطار والسيول للاستفادة منها في فصل الجفاف

- توقيع اتفاقيات مع الدول المشاركة ودول المنبع .

٢- صفات المطر في الوطن العربي . (يكتفى بنقطتين) ص ٥٩

- تنذب كمية الأمطار بين عام وآخر . - تتصف الأمطار بأنها قليلة بصفة عامة .

- تكاد الأمطار تقتصر على الأطراف الشمالية والجنوبية منها .

ج- استعن بالجدول الذي أمامك ثم أجب عن الأسئلة التي تليه : ص ٦١-٦٢ (٥ درجات)

نسبة استخدام المياه المحلاة			
الكويت	٥٥%	قطر	٣٨%
البحرين	٣١%	الإمارات	٢٧%
السعودية	٨%	ليبيا	٥%

١- استخرج من الجدول أكثر وأقل الدول إنتاجاً للمياه المحلاة . ص ٦١

- أكثر الدول : الكويت

- أقل الدول : ليبيا

٢- عدد أهم محطات تحلية المياه في دولة الكويت . ص ٦١

- الشويخ - الدوحة

٣- بماذا تفسر اتجاه عدد من الدول العربية إلى البحار لتأمين حاجاتها من المياه العذبة . ص ٦١

- لأن هذه الدول تقل فيها مصادر المياه العذبة .



عدد الأوراق : (٦)

زمن الإجابة: ساعة ونصف

امتحان نهاية الفترة الدراسية الأولى
لمقرر / الكويت والوطن العربي
(الصف السابع)
للعام الدراسي (٢٠١٧ م / ٢٠١٨ م)
نموذج الإجابة


وزارة التربية
منطقة الفروانية التعليمية
التوجيه الفني للاجتماعيات

السؤال الأول ويتكون من (أ - ب - ج - د - هـ - و) :

أ) اختر الإجابة الصحيحة من بين البدائل التي تلي كل عبارة بوضع خط تحتها: (لكل إجابة درجة واحدة)

١- تبلغ مساحة الوطن العربي بالنسبة لمساحة العالم حوالي : ص ٢٣

- ١٠%	- ٢٠%	- ٣٠%	- ٤٠%
-------	-------	-------	-------

٢- أكثر الأشكال التضاريسية انتشاراً في الوطن العربي هي : ص ٤٠

- الجبال	- الهضاب	- التلال	- السهول
----------	----------	----------	----------

٣- مسطح مائي تحيط به اليابسة من جميع الاتجاهات : ص ٦٠

- نهر	- محيط	- خليج	- بحيرة
-------	--------	--------	---------

٤- أكثر الدول العربية إنتاجاً للمياه الحلاه هي : ص ٦٢

- قطر	- البحرين	- الكويت	- ليبيا
-------	-----------	----------	---------

٥- من أشهر ملوك سبأ ورد ذكرها في القرآن الكريم ملكة اسمها : ص ٨٦

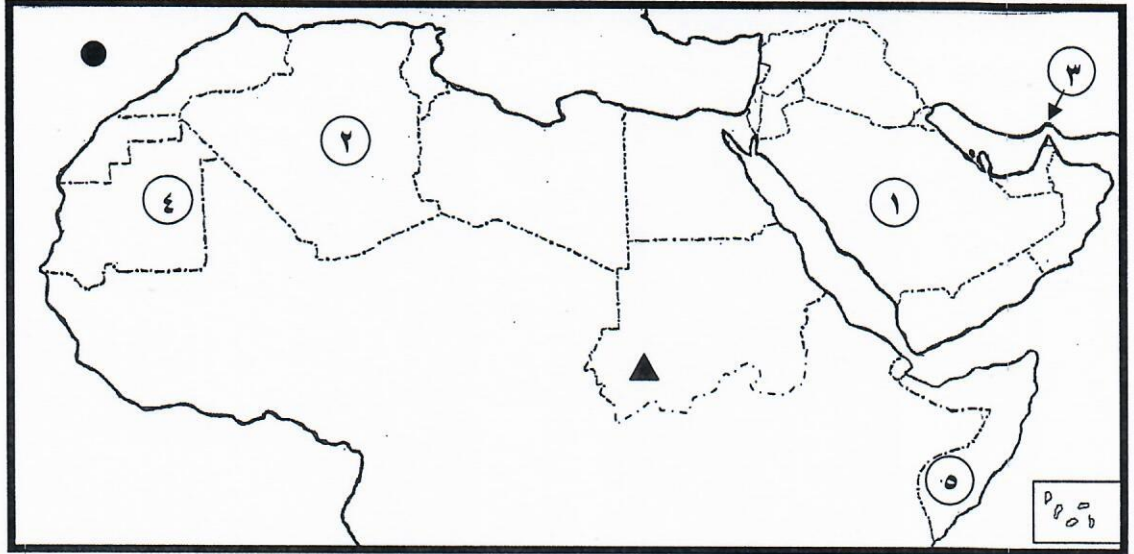
- كليوباترا	- بلقيس	- شجرة الدر	- نفرتيتي
-------------	---------	-------------	-----------

ب) صف الأسماء التالية بمكانها الصحيح في الجدول الذي أمامك :

أطلس / الشطوط / النيل / عسير / الخماسين

رياح	جبال	هضاب	أنهار
الخماسين	أطلس / عسير	الشطوط	النيل
ص ٤٨	ص ٣٨	ص ٤٠	ص ٤٢

تابع السؤال الأول : (لكل إجابة درجة واحدة)
ج) لاحظ خريطة الوطن العربي ثم نفذ المطلوب :



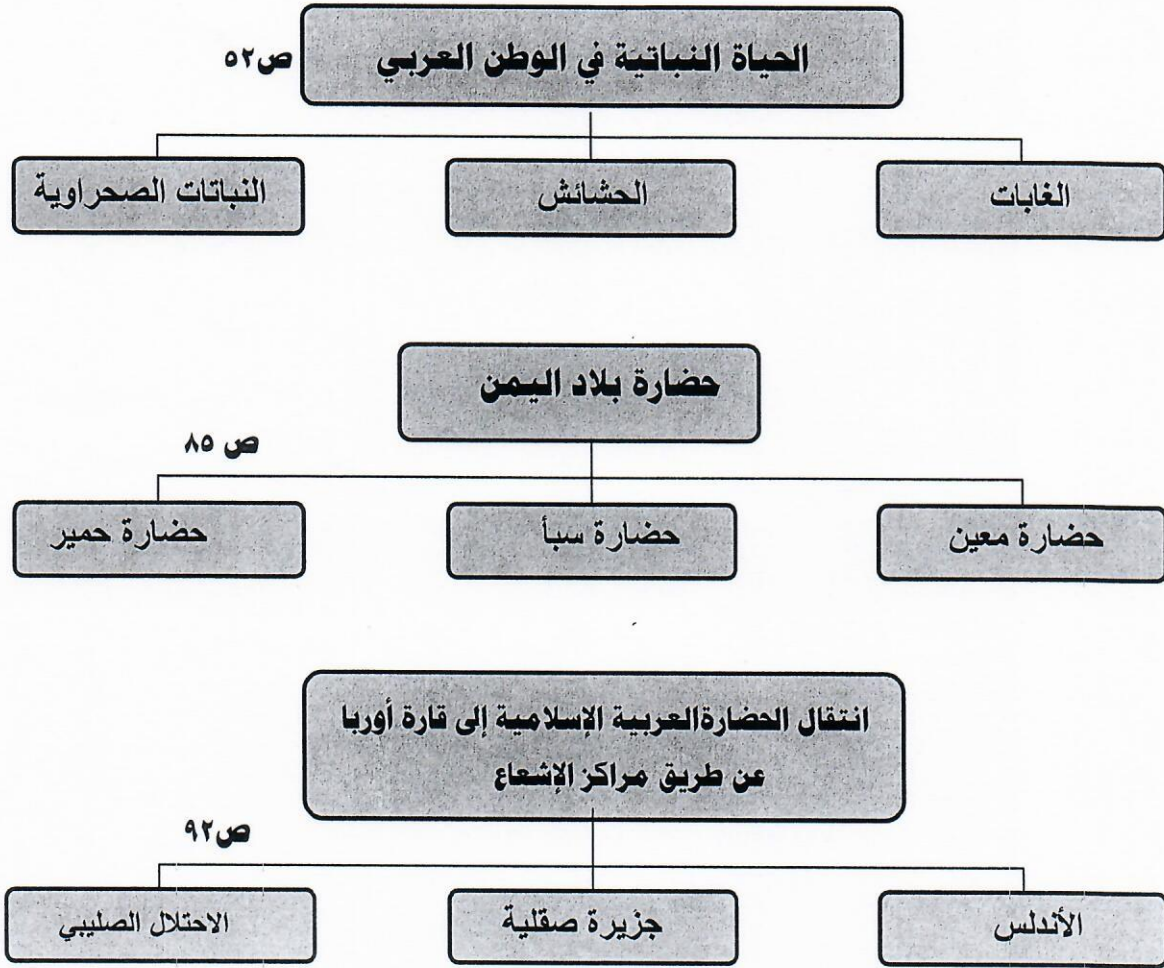
- الشكل (▲) يرمز إلى جبل يطلق عليه اسم (جبل مره) ص ٣٨
- الشكل (●) يرمز إلى مسطح مائي اسمه (المحيط الأطلسي / الأطلنطي)
- الرقم (٣) على الخريطة يشير إلى مضيق اسمه (هرمز) ص ٢٨
- الرقم (٤) على الخريطة يمثل دولة عربية اسمها ... (موريتانيا)
- هضبة نجد يمثلها على الخريطة الرقم (١) ص ٤٠

د) أكمل العبارات التالية بما يناسبها :

- ١- سفينة الصحراء لقب يطلق على حيوان يسمى الجمل ص ٥٦
٢- أطلق على البحرين قديماً قبل الفتح الإسلامي إسم أوال ص ٨٩
٣- الكتابة التي اخترعها السومريون قديماً تسمى المسماوية ص ٨٣
٤- يطلق إسم بلاد الرافدين حالياً على دولة تسمى العراق ص ٧٩
٥- البحر الذي يفصل الجناح الآسيوي عن الجناح الأفريقي في الوطن العربي يسمى الأحمر ص ٢٤

تابع السؤال الأول : (لكل إجابة درجة واحدة = ١٠)

هـ) أكمل المخططات السهمية التالية :



و) أكتب المفهوم أو المصطلح الدال على العبارات التالية :-

٣٣ ص

١- (الموقع النسبي) موقع الدولة بالنسبة لليابسة والماء .

٢- (الحضارة) كل ما يطرأ على المجتمع من تقدم وتطور ورقي في جميع نواحي الحياة الدينية والسياسية

٧١ ص

والاقتصادية والاجتماعية والفكرية .

٣- (النبات الطبيعي) النبات الذي ينمو تلقائياً عقب سقوط المطر دون تدخل من الإنسان .

٥١ ص

٣٨ ص

٤- (الجبل) كل ما ارتفع من الأرض وله قمة لا يقل ارتفاعها عن ١٠٠٠ متر .

السؤال الثاني : يتكون من : [أ ، ب ، ج]

أ) لاحظ الصورة التي أمامك ثم أجب عن الأسئلة التالية : درجتان



- ١- ما اسم الحضارة التي تمثلها الصورة التي أمامك ؟ ص ٧٤
(الحضارة المصرية او الفرعونية) نصف درجة
- ٢- ما العوامل التي ساعدت على قيام الحضارة فيها ؟ درجة
-تنوع الصخور والمعادن
-امتداد الصحراء ونهر النيل .
-اعتدال المناخ وجفافه (يكتفى بنقطتين فقط)
- ٣- ما أهم الفنون التي اشتهرت بها هذه الحضارة ؟ نصف درجة
النحت / البناء

ب) علل لما يلي : (درجتان)

- ١- المدن الساحلية أكثر اعتدالاً في المناخ صيفاً وأدفاً نسبياً شتاءً لأن البحر يلطف من درجة حرارتها . درجة ص ٤٦
- ٢- اهتمام المصريون القدماء بتحنيط جثث موتاهم .
لاعتقادهم بالبعث والخلود وان الحياة تعود الى الجسم بعد الموت . درجة ص ٧٦

ج) فرق بين كل من المفاهيم التالية : (درجات ٦ / لكل تعريف درجة)

القناة	المضيق
مجرى مائي صناعي ضيق يشق لأغراض الري أو النقل	ص ٢٨
ممر مائي ضيق يصل بين بحرين أو محيطين أو أي مساحتين كبيرتين نسبياً من الماء .	
المياه الجوفية	الأفلاج
هي المياه التي توجد في جوف الأرض (باطن الأرض)	ص ٦٠
الماء الجاري (وهو مجرى صغير مائي في الأرض)	
المناخ	الطقس
هو حالة الجو خلال فترة زمنية طويلة من حيث درجة الحرارة والرطوبة والأمطار	ص ٤٤
هو حالة الجو في مكان لمدة قصيرة تتراوح بين يوم أو عدة أيام من حيث درجة الحرارة والرطوبة والأمطار والرياح والضغط الجوي .	

السؤال الثالث : ويتكون من (أ - ب)

أ) عدد لكل مما يلي : ٦ درجات (يكتفى بنقطتين فقط)

درجتان ص ٤٦

- ١- العوامل التي تؤثر في مناخ الوطن العربي .
- الموقع بالنسبة لدوائر العرض
 - القرب والبعد من المسطحات المائية
 - التضاريس
 - الرياح

درجتان ص ٨١

- ٢-العوامل التي ساعدت على ازدهار الزراعة في بلاد الرافدين.
- خصوبة تربتها
 - سعة سهولها
 - ووفرة مياهها (وجود الأنهار)
 - اقامة السدود / تجفيف المستنقعات / استصلاح الأراضي .

درجتان ص ٥٩

- ٣- صفات المطر في الوطن العربي .
- تذبذب كمية المطر بين عام وآخر. كما أنها تسقط في أيام معدودة .
 - الأمطار في الوطن العربي تقتصر على الأطراف الشمالية والجنوبية منها .
 - تتصف بأنها قليلة بصفة عامة .

٤ درجات

ب) قارن بين كل من حسب الجدول التالي : ص ٥٢

أوجه المقارنة	الحشائش الحارة (السافانا)	الحشائش المعتدلة (الأستبس)
التعريف درجة لكل تعريف	هي حشائش طويلة يختلف نوعها حسب كمية الأمطار .	هي حشائش قصيرة نوعاً ما تنمو في الشتاء خلال موسم سقوط الأمطار .
الحيوانات التي تربى عليها (يكتفى بمثال واحد فقط) درجة لكل مثال	تربى عليها الماشية	الأغنام / الإبل / الخيول / الحمير

السؤال الرابع : ويتكون من (أ - ب)

(أ) قارن بين كل من حسب الجدول التالي : (٤ درجات)

ص ٩٠

أوجه المقارنة	اسم النبي	اسم الكتاب
الديانة المسيحية	نزلت على سيدنا عيسى عليه السلام	الإنجيل
الديانة اليهودية	نزلت على سيدنا موسى عليه السلام	التوراة

(ب) اكتب فيما يلي : (يكتفى بنقطتين) درجة لكل اجابة

درجتان ص ٢٦

١- مقومات الهوية العربية .

- الدين الاسلامي.
- اللغة العربية .
- التراث / العادات والتقاليد
- الأهداف المشتركة

درجتان ص ٥٧

٢- مصادر المياه في الوطن العربي .

- مياه الأنهار
- المياه الجوفية
- الأمطار / الأفلاج
- البحيرات / السدود

درجتان ص ٧٣

٣- العوامل الأساسية لقيام الحضارة .

- الموقع الاستراتيجي .
- المياه العذبة
- اعتدال المناخ
- توافر الثروات الطبيعية
- توافر العنصر البشري

وزارة التربية
الإدارة العامة لمنطقة حولي التعليمية
مراقبة الامتحانات و شئون الطلبة

تم التحميل من :
شبكة
يالكويت
<http://www.ykuwait.net>
TELEGRAM: @ykuwait_net_home



نُعوذُ بِجِ الْأَجَابَةِ



وزارة التربية
الإدارة العامة لمنطقة حولي التعليمية
التوجيه الفني للاجتماعيات

إجابة امتحان نهاية الفترة الدراسية الأولى
لمادة الكويت والوطن العربي
للسنة السابعة

٢٠١٧ / ٢٠١٨ م
الزمن : ساعة و ٤٥ دقيقة
عدد الأوراق : (٤)

السؤال الأول (موضوعي) ويتكون من (أ - ب - ج - د - هـ)

٧ درجات

أ- أكمل العبارات التالية بما يناسبها :

١. جميع أشكال المياه على سطح الأرض مثل البحار والخلجان والمحيطات والبحيرات تسمى المسطحات المائية ص ٢٨
٢. ديانة نزلت على سيدنا عيسى بن مريم عليه السلام وكتابتها الإنجيل اسمها المسيحية ... ص ٩٠
٣. للوطن العربي حدوداً بحرية وبرية ، يحده من الغرب المحيط الأطلسي ص ٣٤
٤. تعتبر الأهرامات مظهراً من مظاهر الحضارة المصرية القديمة ... ص ٧٧
٥. يطلق على حضارة دلمون قبل الفتح الإسلامي باسم أوائل ... ص ٨٨
٦. دولة عربية خليجية اعتمدت على تحلية مياه البحر منذ بداية عام ١٩٥٣ م اسمها ص ٦١
٧. يستخدم لحاء البلوط والسنديان في صناعة الفلين ص ٥٢

٧ درجات

ب- ضلّل الإجابة الصحيحة من بين البدائل التالية :

(١) مضيق يصل بين الخليج العربي وخليج عمان يسمى مضيق : ص ٢٨

السويس	باب المنذب	جبل طارق	هرمز
--------	------------	----------	------

(٢) يقع جبل مرة في دولة عربية اسمها : ص ٣٩

السودان	الجزائر	مصر	السعودية
---------	---------	-----	----------

(٣) مساحة كبيرة من سطح الأرض تتميز باستوائها وقلة ارتفاعها تسمى : ص ٤٢

جبال	هضاب	تلال	سهول
------	------	------	------

(٤) الرياح المحلية التي تهب على جمهورية مصر العربية تسمى : ص ٤٨

الهبوب	السموم	الخماسين	الطوز
--------	--------	----------	-------

(٥) تعتبر أشجار الساج والماهوجني من ضمن : ص ٥٢

الغابات المدارية الحارة	الحشائش الحارة	النباتات الصحراوية	الغابات المعتدلة
-------------------------	----------------	--------------------	------------------

(٦) يقع نهر جوبا في دولة عربية اسمها : ص ٥٨

الصومال	السودان	تونس	الجزائر
---------	---------	------	---------

(٧) تنتشر في المملكة العربية السعودية محطات لتحلية المياه أهمها منطقة : ص ٦١

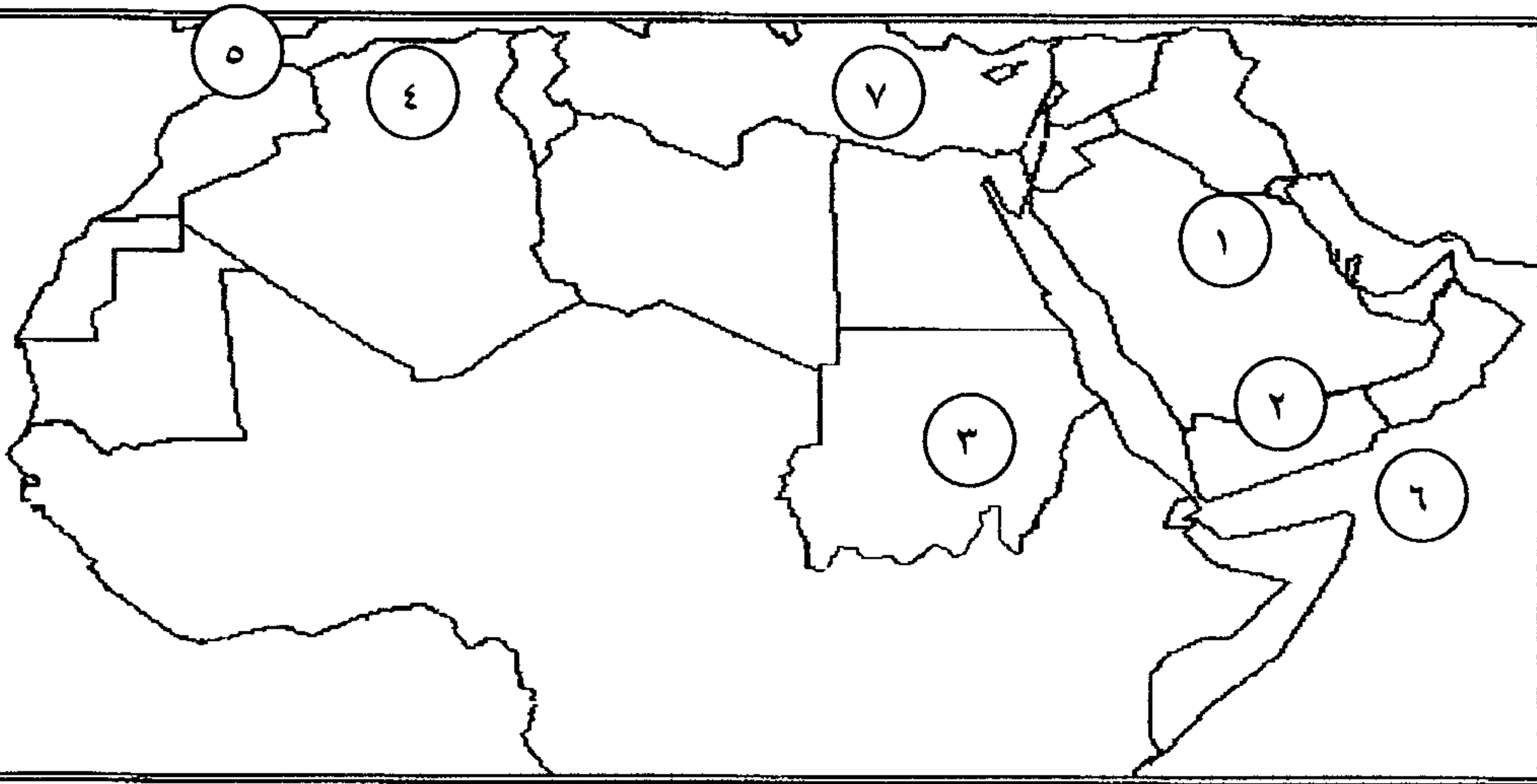
الدمام	الإحساء	الرياض	جدة
--------	---------	--------	-----

تابع إجابة امتحان الصف السابع / الكويت والوطن العربي / نهاية الفترة الدراسية الأولى ٢٠١٧ - ٢٠١٨ م
ج- صنّف المظاهر الحضارية التالية حسب الحضارة التابعة لها في الجدول الذي يليها: ٦ درجات

رأس الثور ص ٨٨ // الكتابة بالخط المسند ص ٨٧ // الكتابة المسمارية ص ٨٣ // سد مأرب ص ٨٦ // مسلة
حمورابي ص ٨٤ // الكتابة الهيروغليفية ص ٧٧

الحضارة المصرية القديمة	حضارة بلاد اليمن	حضارة بلاد الرافدين	حضارة دلمون
الكتابة الهيروغليفية	الكتابة بالخط المسند / سد مأرب	الكتابة المسمارية / مسلة حمورابي	رأس الثور

د- لاحظ خريطة الوطن العربي الصماء التي أمامك ثم نفذ المطلوب : ٤ درجات

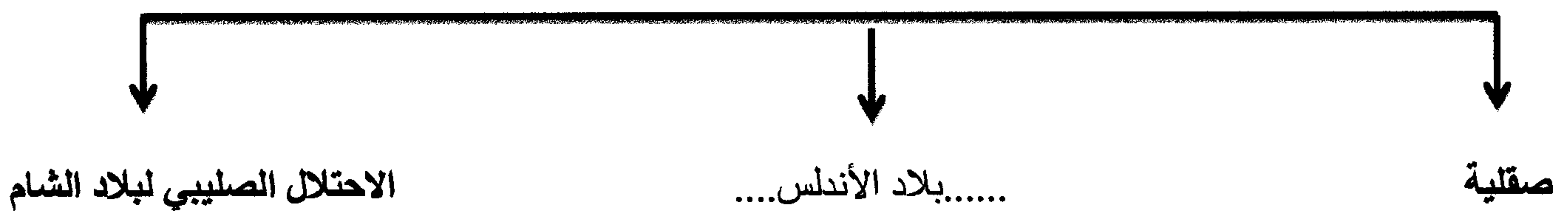


١. حضارة بلاد اليمن يشير إليها الرقم ٢
ص ٧١
٢. هضبة الشطوط يشير إليها الرقم ٤
ص ٤٠
- ٣- مضيق جبل طارق يشير إليه الرقم ٥
ص ٢٨
- ٤- السودان يشير إليها الرقم ٣ ص ٢٣
- ٥- بحر العرب يشير إليه الرقم ٦ ص ٥٨

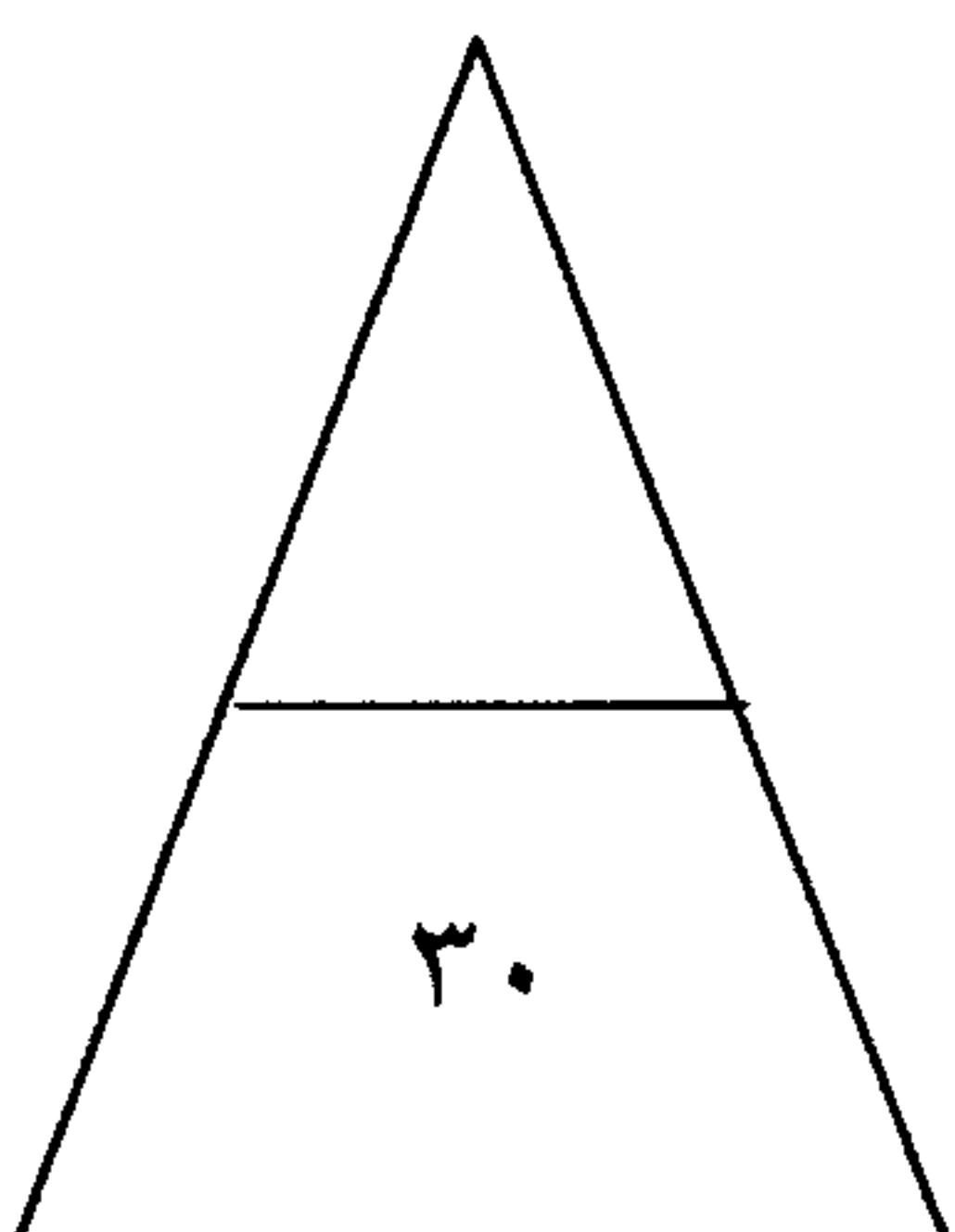
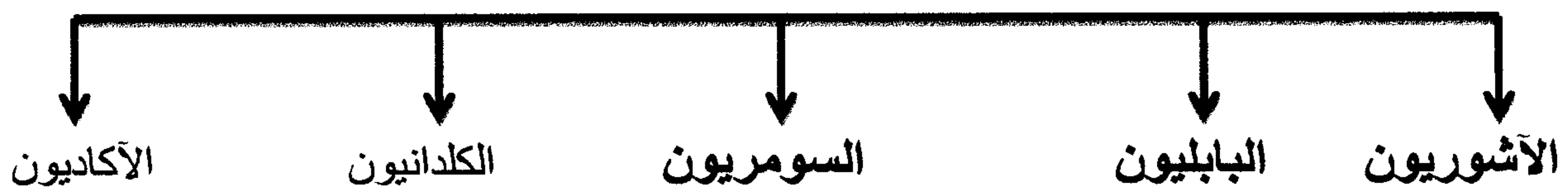
٦ درجات

هـ : أكمل المخططات السهمية التالية :

١- انتقال الحضارة العربية الإسلامية إلى أوروبا عن طريق ص ٩٢



٢- أهم الحضارات التي قامت في بلاد الرافدين ص ٧٩



تابع إجابة امتحان الصف السابع / الكويت والوطن العربي / نهاية الفترة الدراسية الأولى ٢٠١٧ - ٢٠١٨ م

السؤال الثاني : ويتكون من (أ - ب - ج - د)

أ- عرّف المفاهيم والمصطلحات التالية :

٤ درجات

١. المناخ : هو حالة الجو خلال فترة زمنية طويلة من حيث درجة الحرارة والرطوبة والأمطار . ص ٤٤

٢. النبات الطبيعي : هو النبات الذي ينمو تلقائياً عقب سقوط المطر دون تدخل من الإنسان . ص ٥١

٣- الأفلاج : الماء الجاري (وهو مجرى صغير مائي في الأرض) ص ٦٠

٤- بلاد الرافدين : وتعني بلاد ما بين النهرين ، ويطلق عليها حالياً اسم العراق . ص ٧٩

ب- فرّق بين كل مما يلي :

٤ درجات

الموقع النسبي ص ٣٣ هو موقع الدولة بالنسبة لليابسة والماء .	الموقع الاستراتيجي ص ٢٨ أي موقع ذي مكانة مهمة بين دول العالم .
الحشائش المعتدلة (الأستبس) ص ٥٢ حشائش قصيرة نوعاً ما ، تنمو في الشتاء خلال موسم سقوط الأمطار .	الحشائش الحارة (السافانا) ص ٥٢ حشائش طويلة ، يختلف نوعها حسب كمية الأمطار .

٣ درجات

ج- عدّد حضارات بلاد اليمن : ص ٨٥

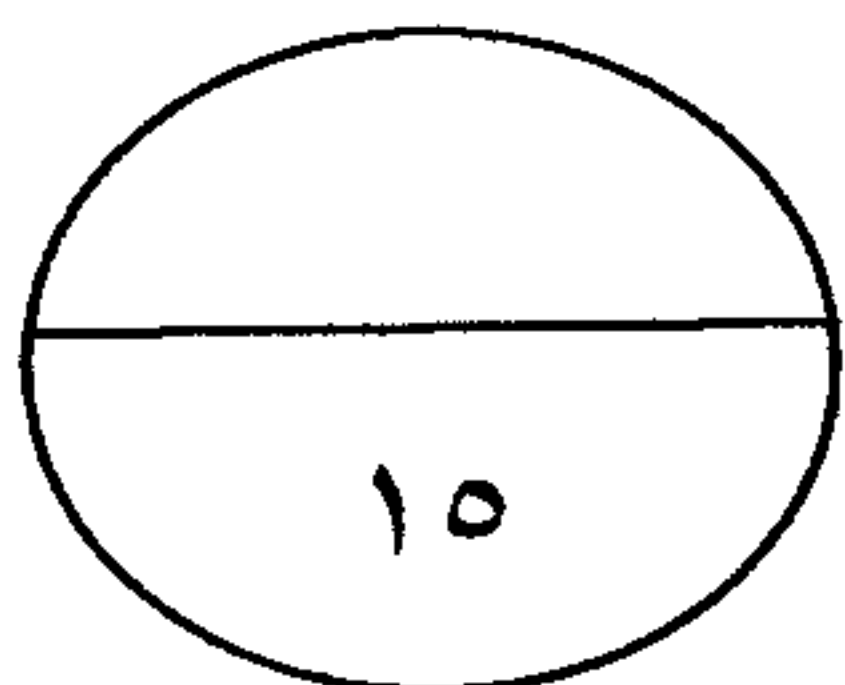
- حضارة معين.....
- حضارة سبأ.....
- حضارة حمير.....

٤ درجات

ص ٤٦

د- أذكر العوامل التي تؤثر في مناخ الوطن العربي .

- الموقع بالنسبة لدوائر العرض
- القرب أو البعد عن المسطحات المائية
- التضاريس
- الرياح



تابع إجابة امتحان الصف السابع / الكويت والوطن العربي / نهاية الفترة الدراسية الأولى ٢٠١٧ - ٢٠١٨ م

السؤال الثالث : ويتكون من (أ - ب - ج - د)

أ- علل لما يلي :

- ١- اهتمام المصريين القدماء بتحنيط جثث موتاهم . ص ٧٦ درجة واحدة
- بسبب اعتقادهم أن الحياة تعود إلى الجسم بعد الموت ، أي أنهم اعتقدوا في " البعث والخلود "

- ٢- للوطن العربي أهمية جغرافية . ص ٣٥ درجتان

• لأنه يتمتع بموقع إستراتيجي مهم

• يشغل مكاناً وسطاً بين قارات العالم الثلاث

• يطل على مسطحات مائية واسعة ذات أهمية كبيرة للملاحة والتجارة العالمية .

ب- عرّف المفاهيم والمصطلحات التالية:

٣ درجات

- النهر : مجرى مائي عذب ينحدر على الدوام لينتهي إلى بحر أو إلى نهر آخر أو ينتهي تدريجياً في الصحراء . ص ٥٨

- الجبل : هو كل ما ارتفع من الأرض وله قمة لا يقل ارتفاعها عن ١٠٠٠ متر . ص ٣٨

- الضغط الجوي : هو وزن الهواء فوق أي مكان . ص ٤٤

ج- اكتب فيما يلي مما درست :

- ١- صفات المطر في الوطن العربي . ص ٥٩ ٣ درجات

* تذبذب كمية الأمطار بين عام وآخر ، كما أنها تسقط في أيام معدودة .

* الأمطار في الوطن العربي تكاد تكون تقتصر على الأطراف الشمالية والأطراف الجنوبية منها .

* تتصف الأمطار بأنها قليلة بصفة عامة ، ولا يستثنى من ذلك سوى المناطق التي تقع من ورائها الجبال ، كما هي الحال في سواحل المغرب وساحل لبنان .

- ٢- العوامل التي ساعدت على قيام الحضارة المصرية القديمة . ص ٧٥ ٣ درجات

* تنوع الصخور والمعادن

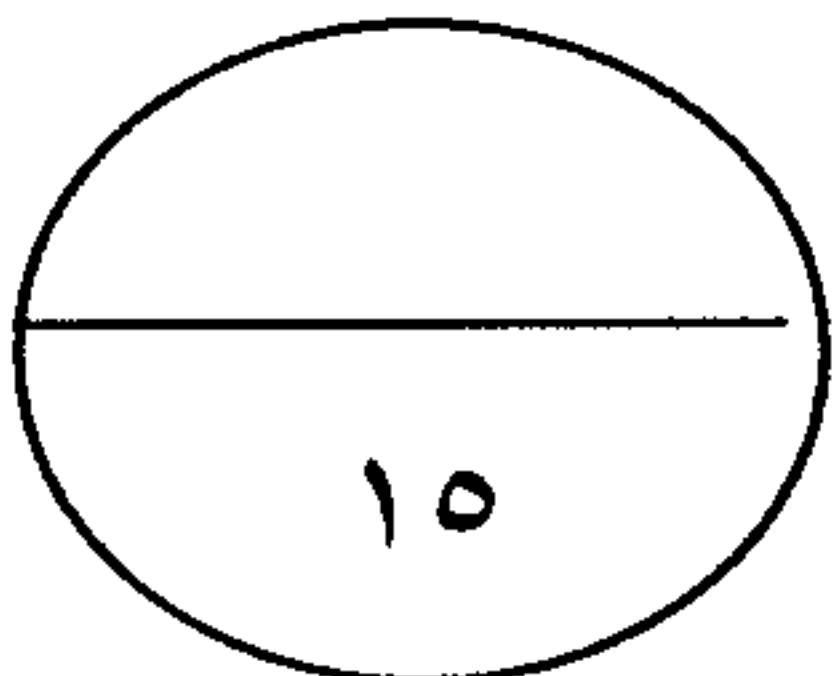
* امتداد الصحراء - نهر النيل * اعتدال المناخ وجفافه

د- عّد وسائل مقاومة الجفاف لدى النباتات الصحراوية في الوطن العربي : ص ٥٢ ٣ درجات

* جذورها طويلة . * القدرة على خزن المياه .

* تحمي نفسها بلحاء سميك وأوراق إبرية .

انتهت الأسئلة





وزارة التربية

إدارة الشؤون التعليمية
مؤابية الامتحانات وشؤون الطلبة



نموذج الإجابة

المرحلة المتوسطة

اختبارات نهاية الفصل الدراسي الأول

المادة: الاجتماعيات

الصف: السابع

العام الدراسي

2018 / 2017

السؤال الأول: (موضوعي) يتكون من (أ - ب - ج - د) : ((درجة واحدة لكل سؤال))

(أ) أكمل العبارات التالية بما يناسبها مما درست:

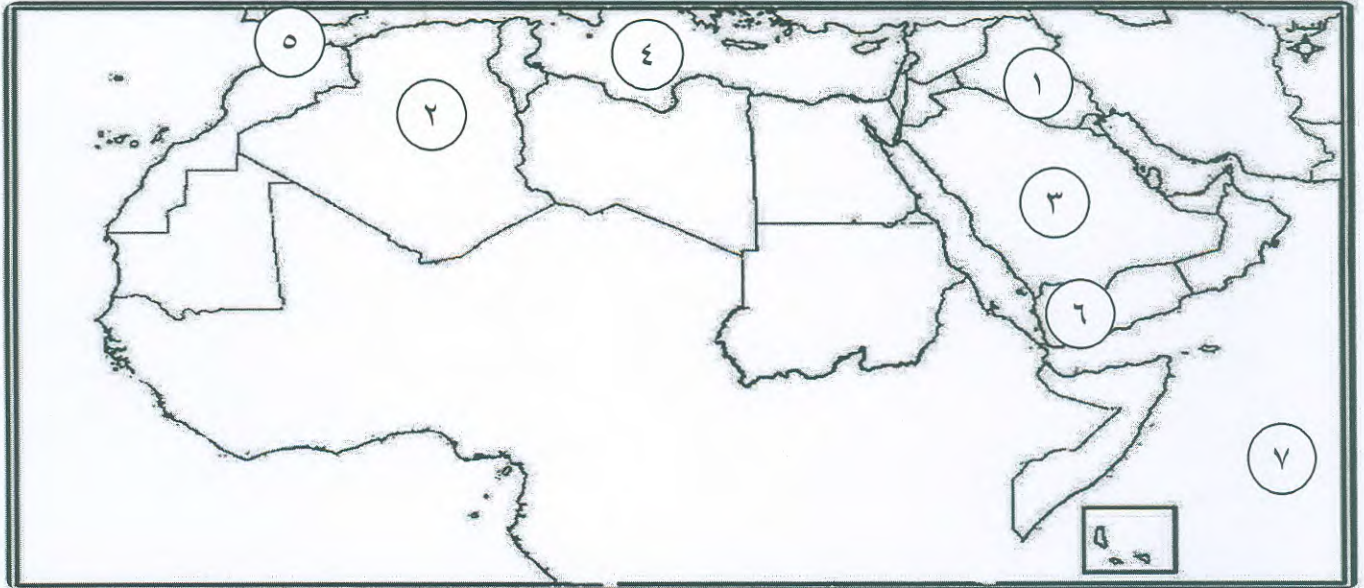
- ١- يمتد الوطن العربي ضمن قارتي آسيا و وقارة أخرى تسمى أفريقيا ص ٢١
- ٢- الدولة العربية التي ظهرت فيها حضارة دلمون تسمى البحرين ص ٨٨
- ٣- ظهرت الكتابة المسمارية في حضارة تسمى بلاد الرافدين ص ٨٣
- ٤- جبل يقع في شمال شرق ليبيا يسمى الجبل الأخضر ص ٣٨
- ٥- تعرف حشائش الإستبس في بلاد المغرب العربي باسم حشائش الحلفا ص ٥٢
- ٦- وصف حلة الجو في مكان ما لمدة قصيرة يسمى الطقس ص ٤٤
- ٧- أكثر دولة إنتاجاً للمياه المحلاة تسمى دولة الكويت ص ٦٢
- ٨- الديانة اليهودية من الديانات السماوية الثلاث نزلت على سيدنا موسى ص ٩٠

(ب) اختر الخيار الصحيح من بين الخيارات التي تلي كل عبارة بوضع خط تحتها:

- ١- أهم الحيوانات السائدة في المنطقة الصحراوية يسمى: ص ٥٥
(الأسد - الإبل - البطريق - الدب)
- ٢- تبلغ مساحة الوطن العربي حوالي: ص ٢٣
(١٣,٥ مليون كم - ١٥ مليون كم - ١٧ مليون كم - ١٩ مليون كم)
- ٣- شريعة حمورابي ظهرت في حضارة تسمى: ص ٨٤
(دلمون - المصرية القديمة - بلاد اليمن - بلاد الرافدين)
- ٤- أرض مرتفعة سطحها مستوي لمساحات كبيرة تسمى: ص ٤٠
(هضبة - جبل - وادي - سهل)
- ٥- عاصمة حضارة سبأ تسمى: ص ٨٥
(معين - ريدان - مأرب - قرناو)
- ٦- تمتد سلسلة جبال أطلس بين الجزائر ودولة أخرى تسمى: ص ٣٨
(مصر - المغرب - لبنان - سوريا)
- ٧- الرياح المحلية التي تهب على دولة الكويت تسمى: ص ٤٨
(الخماسين - القبلي - السيروكو - الطوز)

ج) صوب ما تحته خط في العبارات التالية:

- ١- أهم أشجار الغابات المعتدلة هي شجرة الساج. (الأرز - العرعر - الصنوبر الحلبي - البلوط - السنديان) ص ٥٢
 - ٢- ملكة سبأ التي ورد أسماها بالقرآن الكريم الملكة زنوبيا. (بلقيس) ص ٨٦
 - ٣- يصب كل من نهري دجلة والفرات في البحر الأبيض المتوسط. (الخليج العربي) ص ٥٨
 - ٤- وزن الهواء فوق أي مكان الرطوبة. (الضغط الجوي) ص ٤٤
 - ٥- أنشئت دولة الكويت أول محطة لتحلية مياه البحر عام ١٩٥٣م تسمى محطة الأحمدى. (محطة الشويخ) ص ٦١
 - ٦- كل ما يطرأ على المجتمع من تقدم وتطور ورقي في جميع النواحي الحياة الوطن العربي. (الحضارة) ص ٧١
 - ٧- انتقلت الحضارة العربية الإسلامية إلى أوروبا بفضل مراكز الإشعاع صقلية وبلاد الشام واليمن. (بلاد الأندلس) ص ٩٢
 - ٨- أطلق على البحرين قبل الفتح الإسلامي أسم اللات. (أوال) ص ٨٨
- د) أمامك (خريطة الوطن العربي الصماء) نفذ المطلوب عليها :



- البحر المتوسط يمثله على الخريطة رقم (٤) . ص ٢٣
- هضبة نجد يمثله على الخريطة رقم (٣) . ص ٤٠
- دولة عربية يمر بها خط غرينتش يمثله على الخريطة رقم (٢) . ص ٣١
- حضارة بلاد الرافدين يمثله على الخريطة رقم (١) . ص ٧١
- مضيق جبل طارق يمثله على الخريطة رقم (٥) . ص ٢٩
- حضارة حمير يمثله على الخريطة رقم (٦) . ص ٨٥
- المحيط الهندي يمثله على الخريطة رقم (٧) . ص ٤٧

السؤال الثاني: (مقال) يتكون من (أ - ب - ج):

أ- عرف المفاهيم الآتية:

١- وطن عربي. ص ٢٢ (درجة واحدة)
هو مجموعة من الدول العربية التي يجمعها عدد من السمات المشتركة الدين واللغة ويمتد ضمن قارتين من أكبر قارات العالم مساحة.

٢- مياه جوفية. ص ٦٠ (درجة واحدة)
هي مياه التي توجد في جوف الأرض (باطن الأرض).

٣- مناخ. ص ٤٤ (درجة واحدة)
هو حالة الجو خلال فترة زمنية طويلة من حيث درجة الحرارة والرطوبة والأمطار والرياح.

ب- علل لما يأتي:

١- ازدهرت الزراعة في بلاد الرافدين. ص ٨١ (درجة واحدة)
تربته الخصبة - سعة سهولها - وفرة مياهها.

٢- كانت تعيش أوروبا في القرن العاشر الميلادي في عصور الظلام. ص ٩٢ (درجة واحدة)
بسبب سيطرة الكنيسة على عقول الناس.

٣- حرص المصريين القدماء على تحنيط جثث موتاهم. ص ٧٦ (درجة واحدة)
لاعتقاد المصريين القدماء أن الحياة تعود إلى الجسم بعد الموت ، أي يعتقدوا في ((البعث والخلود)) ولذلك حرصوا على تحنيط جثث موتاهم ، واهتموا ببناء القبور وإقامة المعابد الفخمة للآلهة.

ج- قارن بين كل من السهول الفيضية والسهول الساحلية من حيث الجدول الآتي: ص ٤٢ (أربع درجات)

وجه المقارنة	السهول الفيضية (النهرية)	السهول الساحلية
المفهوم	هي الأراضي المنخفضة التي تكونت من التربة التي حملتها مياه الأنهار.	هي الأراضي المنبسطة التي تجاور سواحل البحار والمحيطات.
مثال	نهر دجلة والفرات- نهر الأردن - نهر النيل - نهر شلبي - نهر جوبا - نهر مجردة - نهر الشليف - نهر سبو - نهر أم الربيع - نهر السوس	السهول الساحلية الشرقية للخليج العربي السهول الساحلية على المحيط الهندي السهول الساحلية للبحر الأحمر سهل العلويين - سهل لبنان - سهل الساحل الفلسطيني - السهول على بحر العرب -سهول المغرب العربي - السهول الساحلية على المحيط الأطلسي - سهول ليبيا

السؤال الثالث: (مقال) يتكون من (أ - ب - ج):

أ- أجب عما يلي:

١- العوامل الرئيسية المؤثرة في تنوع النبات الطبيعي في الوطن العربي. ص ٥١ (درجتان)

- نوع التربة.
- المناخ.

٢- عوامل ساعدت على قيام الحضارة المصرية القديمة. ص ٧٥ (درجتان)


- تنوع الصخور و المعادن.
- امتداد الصحراء نهر النيل.
- اعتدال المناخ وجفافه.

٣- الأنشطة الاقتصادية لسكان حضارة دلمون. ص ٨٨ (درجتان)

- الزراعة.
- صيد الأسماك.
- الغوص على اللؤلؤ.

ب- أجب على المخطط السهمي:

عناصر المناخ. ص ٤٥ (درجتان)



ج- فرق بين كل من الأفلاج والأنهار من حيث المفهوم. (درجتان)

من حيث	الأفلاج ص ٦٠	الأنهار ص ٥٨
المفهوم	الماء الجاري (وهو مجرى صغير مائي في الأرض).	مجري مائي عذب ينحدر على الدوام لينتهي إلى بحر أو نهر آخر أو ينتهي تدريجياً في الصحراء

السؤال الرابع: (مقال) يتكون من (أ - ب - ج):

أ- دلل على صحة العبارات التالية:

١- ((يؤثر القرب أو البعد عن خط الاستواء في مناخ الإقليم)) ص ٤٦ (درجتان)
يؤثر القرب أو البعد عن خط الاستواء في مناخ الإقليم ، فالأماكن القريبة من خط الاستواء تتميز بارتفاع في درجة حرارتها على مدار أيام السنة وهي أكثر اعتدالاً في المناخ ، فالأماكن البعيدة من خط الاستواء تنخفض فيها درجة الحرارة.

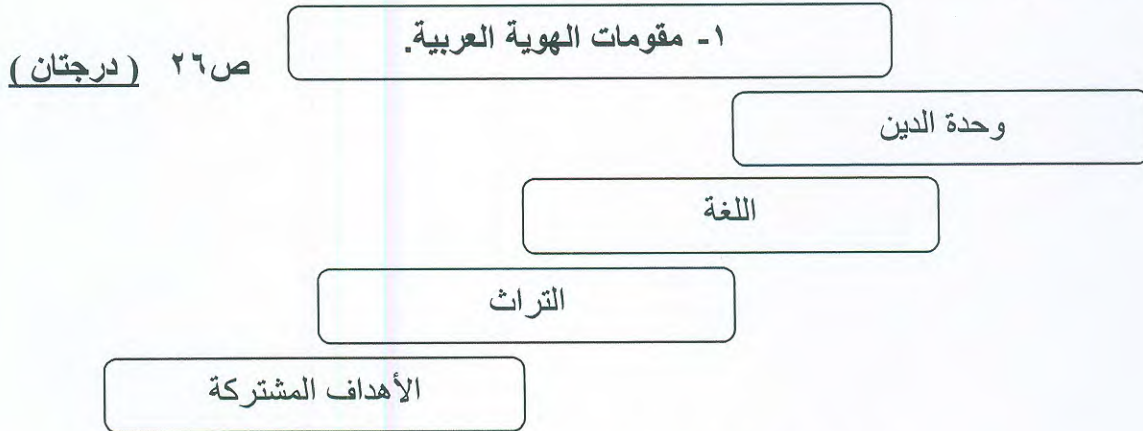
٢- ((يتمتع الوطن العربي بأهمية اقتصادية كبيرة منذ القدم)) ص ٣٥ (درجتان)
• يعتبر منطقة عبور لحركة التجارة والملاحة العالمية.
• وهو جسر الذي يربط قارات العالم الثلاث (أفريقيا - آسيا - أوربا) بمواردها الهائلة وال ضخمة.
• سكان الوطن العربي يشكلون ٥ % تقريباً من سكان العالم.
• ظهور النفط بكميات كبيرة في منطقة الخليج العربي و شبه الجزيرة العربية و شمال أفريقيا.

٣- ((أكتسب الوطن العربي أهمية روحية مقدسة)) ص ٩٠ (درجتان)
يعتبر الوطن العربي مهد الديانات السماوية الثلاث (اليهودية - المسيحية - الإسلامية) التي انتشرت في أنحاء العالم

ب- أكتب ما تعرفه عن:

١- بما يتصف المطر في الوطن العربي. ص ٥٩ (درجتان)
• تنذب كمية الأمطار بين عام وآخر ، كما تسقط في أيام معدودة.
• الأمطار في الوطن العربي تكاد تقتصر على الأطراف الشمالية والأطراف الجنوبية منها.
• تتصف الأمطار بأنها قليلة بصفة عامة ، ويستثنى من ذلك المناطق التي تقع من ورائها الجبال كما سواحل المغرب وسواحل لبنان.

ج- أجب عما يلي:



مع تمنيات التوجيه الفني للاجتماعيات لكم بالتوفيق و النجاح